



# 三角形と角 10

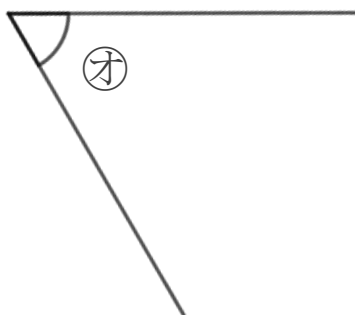
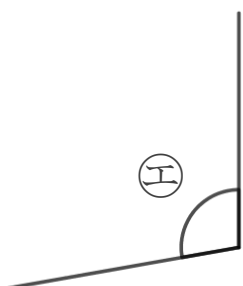
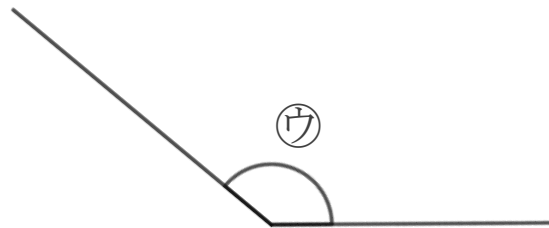
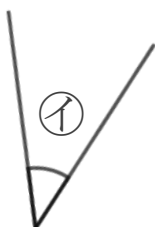
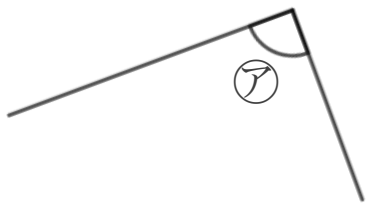
● 角を大きい  
じゅんにならべる



日にち：            月            日

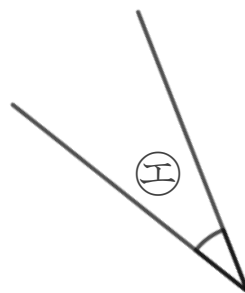
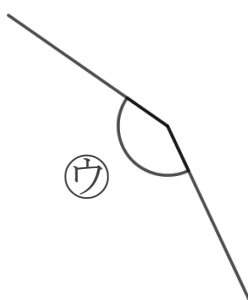
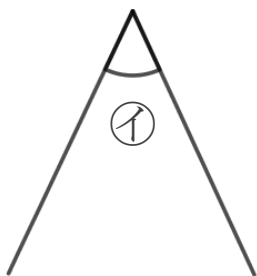
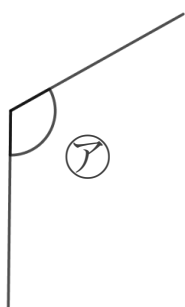
名まえ \_\_\_\_\_

1 次の角の大きさをくらべて、小さいじゅんに書きましょう。



答え：            →            →            →            →

2 次の角を見つけて、ア～エで答えましょう。



① いちばん大きい角

答え： \_\_\_\_\_

② いちばん小さい角

答え： \_\_\_\_\_





# 三角形と角 10

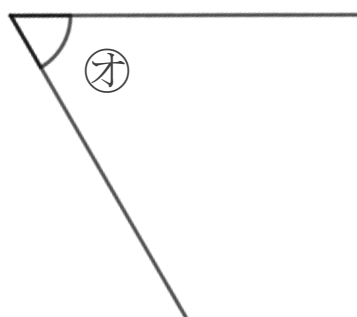
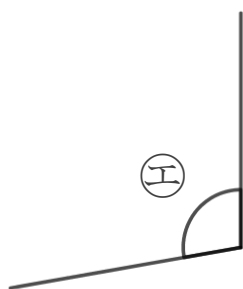
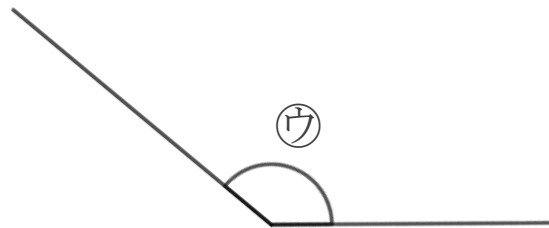
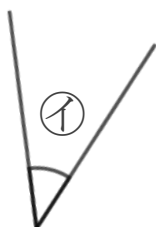
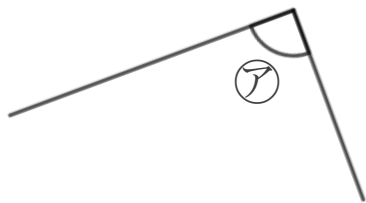
● 角を大きい  
じゅんにならべる



日にち：            月            日

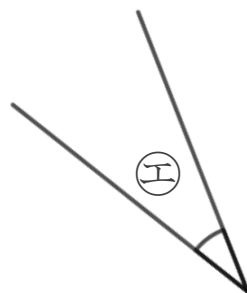
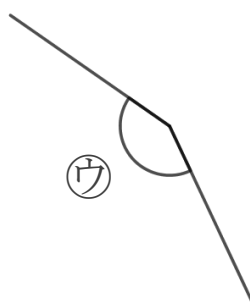
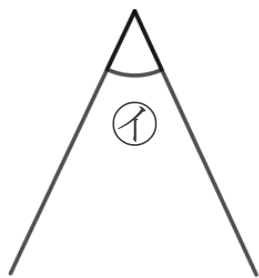
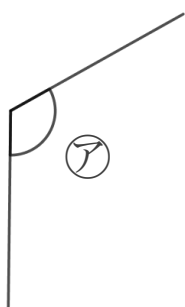
名まえ \_\_\_\_\_

1 次の角の大きさをくらべて、小さいじゅんに書きましょう。



答え： **イ** → **オ** → **ア** → **エ** → **ウ**

2 次の角を見つけて、**ア**～**エ**で答えましょう。



① いちばん大きい角

答え：

**ウ**

② いちばん小さい角

答え：

**エ**

