



分数 8

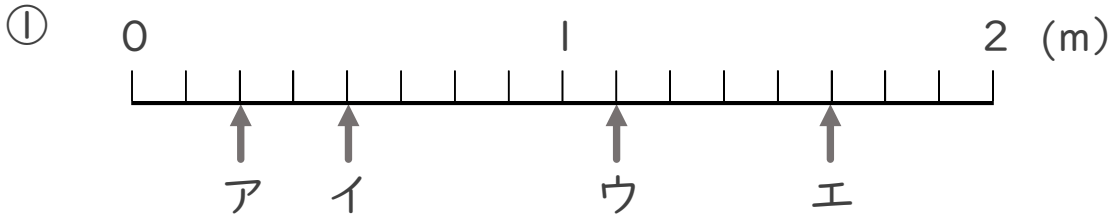
● 1より大きい分数を
数直線に表す



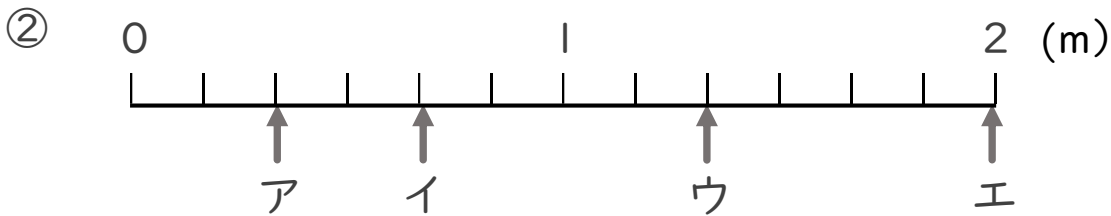
日にち： 月 日

名まえ _____

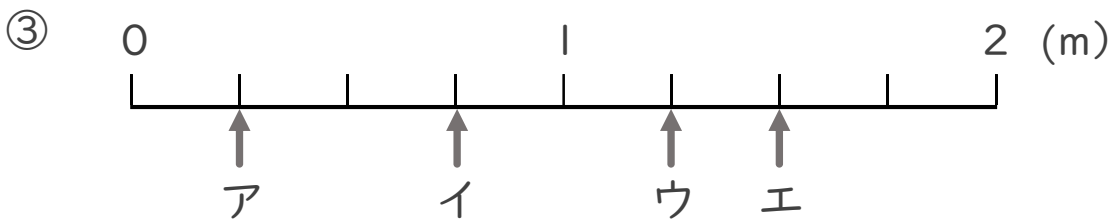
・ ア～エのめもりが表す長さは、それぞれ何mですか。



答え ア $\frac{2}{8}$ m イ $\frac{4}{8}$ m ウ $\frac{9}{8}$ m エ $\frac{13}{8}$ m



答え ア $\frac{2}{6}$ m イ $\frac{4}{6}$ m ウ $\frac{8}{6}$ m エ 2 m



答え ア $\frac{1}{4}$ m イ $\frac{3}{4}$ m ウ $\frac{5}{4}$ m エ $\frac{6}{4}$ m