



分数 7

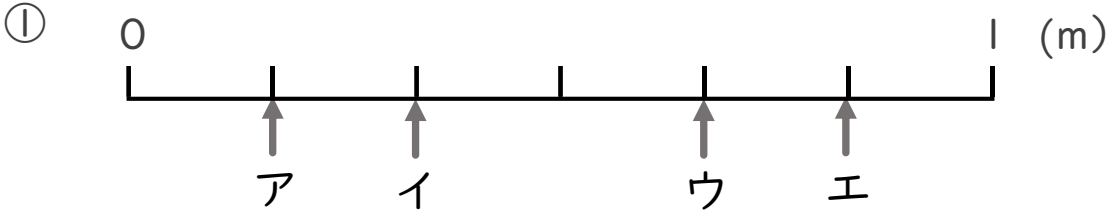
1より小さい分数を
数直線に表す



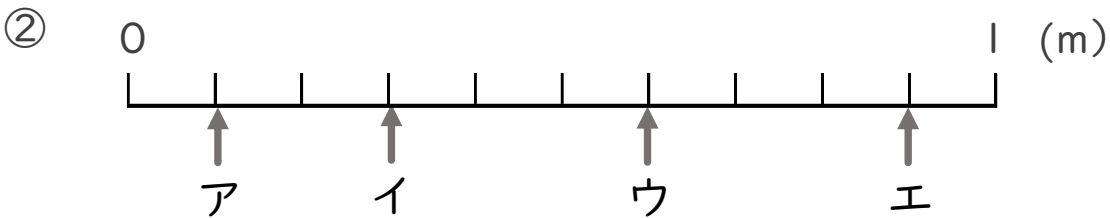
日にち： 月 日

名まえ _____

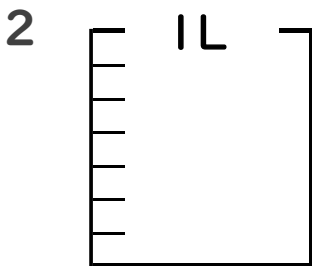
1 ア～エのめもりが表す長さは、それぞれ何mですか。



答え ア _____ m イ _____ m ウ _____ m エ _____ m



答え ア _____ m イ _____ m ウ _____ m エ _____ m



① $\frac{1}{7}$ Lの5こ分だけ色をぬりましょう。

② 色をぬったところのかさは何Lですか。 _____ L



分数 7

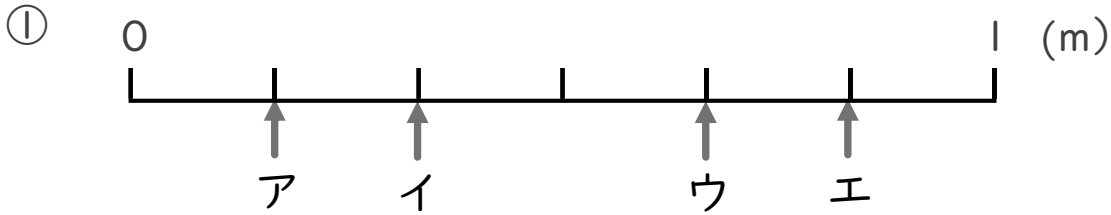
● 1より小さい分数を数直線に表す



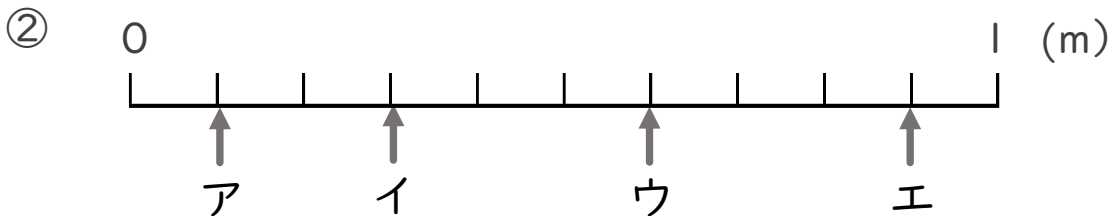
日にち： 月 日

名まえ _____

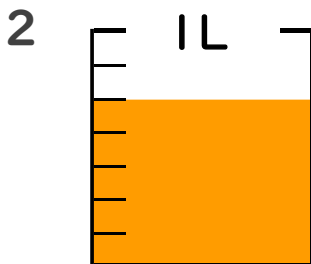
1 ア～エのめもりが表す長さは、それぞれ何mですか。



答え ア $\frac{1}{6}$ m イ $\frac{2}{6}$ m ウ $\frac{4}{6}$ m エ $\frac{5}{6}$ m



答え ア $\frac{1}{10}$ m イ $\frac{3}{10}$ m ウ $\frac{6}{10}$ m エ $\frac{9}{10}$ m



① $\frac{1}{7}$ Lの5こ分だけ色をぬりましょう。

② 色をぬったところのかさは何Lですか。 $\frac{5}{7}$ L

