



# 分数 7

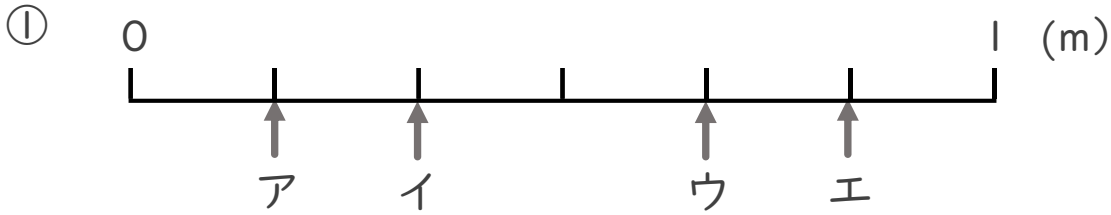
1より小さい分数を  
数直線に表す



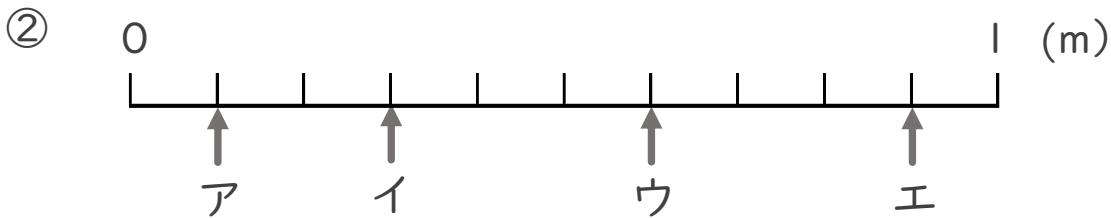
日にち： 月 日

名まえ \_\_\_\_\_

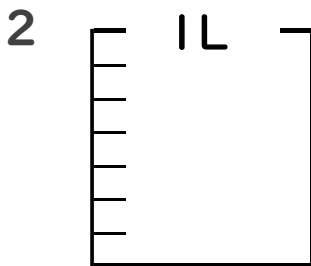
1 ア～エのめもりが表す長さは、それぞれ何mですか。



答え ア \_\_\_\_\_ m イ \_\_\_\_\_ m ウ \_\_\_\_\_ m エ \_\_\_\_\_ m



答え ア \_\_\_\_\_ m イ \_\_\_\_\_ m ウ \_\_\_\_\_ m エ \_\_\_\_\_ m



①  $\frac{1}{7}$  Lの5こ分だけ色をぬりましょう。

② 色をぬったところのかさは何Lですか。 \_\_\_\_\_ L



# 分数 7

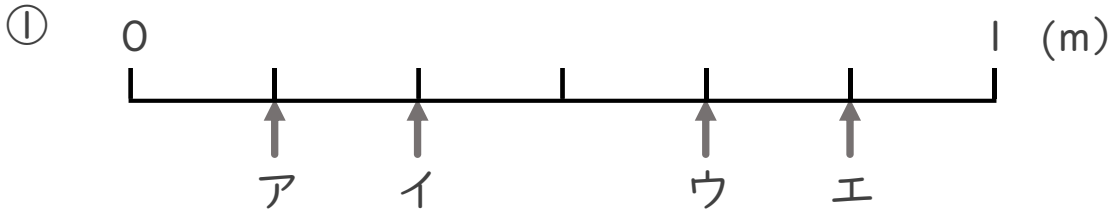
● 1より小さい分数を数直線に表す



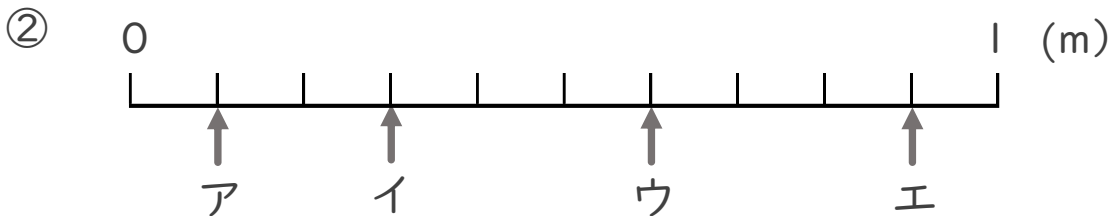
日にち： 月 日

名まえ \_\_\_\_\_

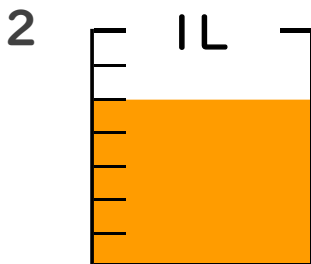
1 ア～エのめもりが表す長さは、それぞれ何mですか。



答え ア  $\frac{1}{6}$  m イ  $\frac{2}{6}$  m ウ  $\frac{4}{6}$  m エ  $\frac{5}{6}$  m



答え ア  $\frac{1}{10}$  m イ  $\frac{3}{10}$  m ウ  $\frac{6}{10}$  m エ  $\frac{9}{10}$  m



①  $\frac{1}{7}$  Lの5こ分だけ色をぬりましょう。

② 色をぬったところのかさは何Lですか。  $\frac{5}{7}$  L