



大きい数のしくみ 9

● 1万の位の数直線

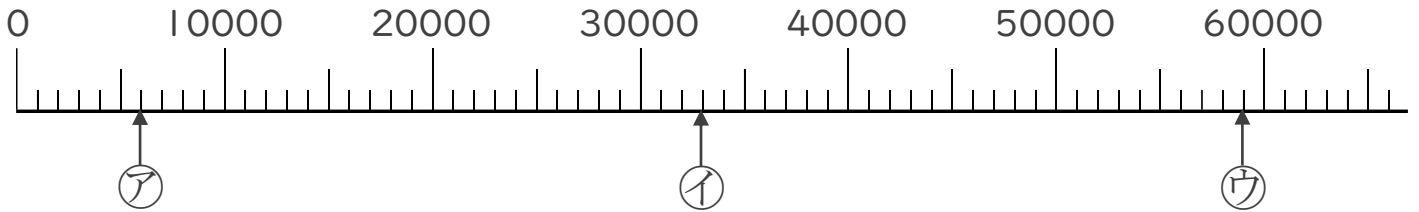


日にち： 月 日

名まえ _____

1 ㉠～㉣のめもりが表している数を〔 〕に書きましょう。

①

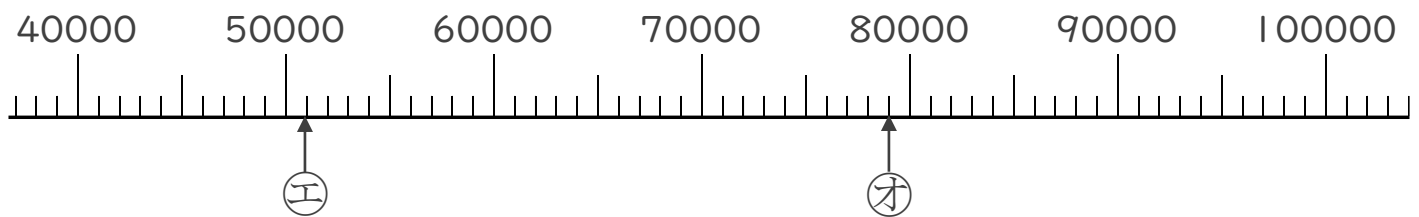


〔 〕

〔 〕

〔 〕

②

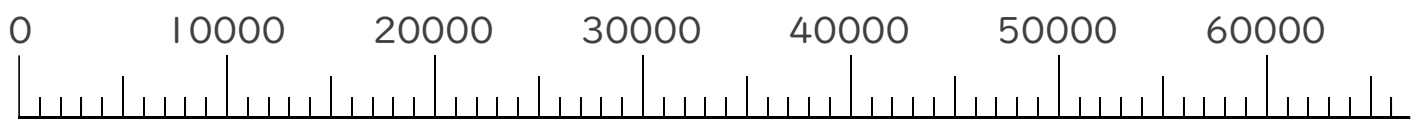


〔 〕

〔 〕

2 次の数を表すめもりに、↑を書きましょう。

- ① 1000 ② 24000 ③ 57000





大きい数のしくみ 9

● 1万の位の数直線

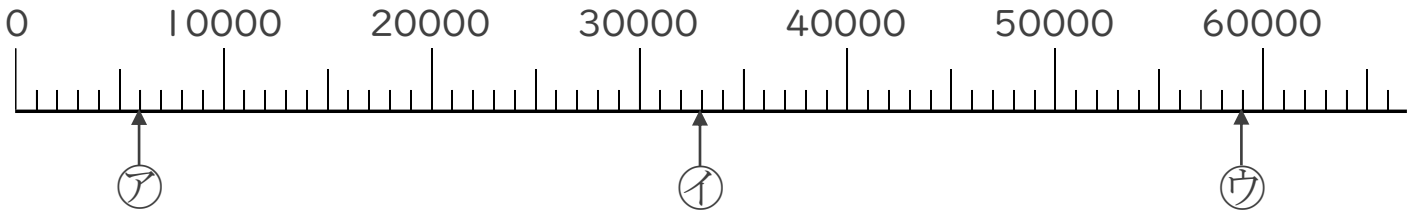


日にち： 月 日

名まえ _____

1 ㉠～㉣のめもりが表している数を〔 〕に書きましょう。

①

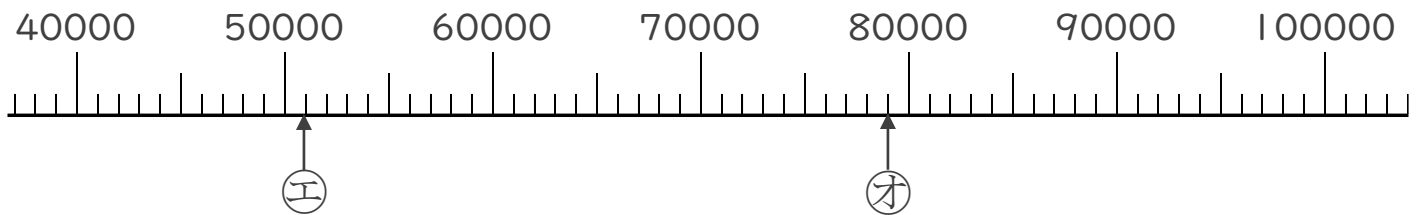


〔 6000 〕

〔 33000 〕

〔 59000 〕

②



〔 51000 〕

〔 79000 〕

2 次の数を表すめもりに、↑を書きましょう。

① 1000 ② 24000 ③ 57000

