



たし算と
ひき算の筆算 2

● 3けたのたし算
(一の位くり上がり)



日にち： 月 日


名まえ _____

・ 次の計算を筆算でしましょう。


$$\begin{array}{r} \textcircled{1} \quad 226 \\ + 263 \\ \hline \end{array}$$

$$\begin{array}{r} \textcircled{2} \quad 405 \\ + 246 \\ \hline \end{array}$$


$$\textcircled{3} \quad 277 + 317$$



$$\textcircled{4} \quad 324 + 533$$



$$\textcircled{5} \quad 537 + 245$$



$$\textcircled{6} \quad 127 + 108$$





たし算と
ひき算の筆算 2

● 3けたのたし算
(一の位くり上がり)



日にち： 月 日

名まえ _____

・ 次の計算を筆算でしましょう。

$$\begin{array}{r} \textcircled{1} \quad 226 \\ + 263 \\ \hline 489 \end{array}$$

$$\begin{array}{r} \textcircled{2} \quad 405 \\ + 246 \\ \hline 651 \end{array}$$

$$\textcircled{3} \quad 277 + 317$$

	2	7	7
+	3	1	7
<hr/>			
	5	9	4

$$\textcircled{4} \quad 324 + 533$$

	3	2	4
+	5	3	3
<hr/>			
	8	5	7

$$\textcircled{5} \quad 537 + 245$$

	5	3	7
+	2	4	5
<hr/>			
	7	8	2

$$\textcircled{6} \quad 127 + 108$$

	1	2	7
+	1	0	8
<hr/>			
	2	3	5