



たし算と  
ひき算の筆算 3

● 3けたのたし算  
(十の位くり上がり)



日にち： 月 日


名まえ \_\_\_\_\_

・ 次の計算を筆算でしましょう。


$$\begin{array}{r} \textcircled{1} \quad 216 \\ + 293 \\ \hline \end{array}$$

$$\begin{array}{r} \textcircled{2} \quad 434 \\ + 327 \\ \hline \end{array}$$


$$\textcircled{3} \quad 437 + 257$$




$$\textcircled{4} \quad 367 + 580$$



$$\textcircled{5} \quad 518 + 374$$



$$\textcircled{6} \quad 152 + 263$$





たし算と  
ひき算の筆算 3

● 3けたのたし算  
(十の位くり上がり)



日にち： 月 日

名まえ \_\_\_\_\_

・ 次の計算を筆算でしましょう。

$$\begin{array}{r} \text{①} \quad \begin{array}{r} | \\ 216 \\ + 293 \\ \hline 509 \end{array} \end{array}$$

$$\begin{array}{r} \text{②} \quad \begin{array}{r} | \\ 434 \\ + 327 \\ \hline 761 \end{array} \end{array}$$

③  $437 + 257$

	4	3	7
+	2	5	7
<hr/>			
	6	9	4

④  $367 + 580$

	3	6	7
+	5	8	0
<hr/>			
	9	4	7

⑤  $518 + 374$

	5	1	8
+	3	7	4
<hr/>			
	8	9	2

⑥  $152 + 263$

	1	5	2
+	2	6	3
<hr/>			
	4	1	5