



たし算と
ひき算の筆算 13

● 3けた-1けた
(くり下がりあり)



日にち： 月 日


名まえ _____

・次の計算を筆算でしましょう。


①
$$\begin{array}{r} 833 \\ - \quad 7 \\ \hline \end{array}$$

②
$$\begin{array}{r} 508 \\ - \quad 71 \\ \hline \end{array}$$


③ $953 - 8$




④ $716 - 44$



⑤ $474 - 6$



⑥ $165 - 6$





たし算と
ひき算の筆算 13

◎ 3けた-1けた
(くり下がりがりあり)



日にち： 月 日

名まえ _____

・次の計算を筆算でしましょう。

①

		2	10
	8	3	3
-			7
	8	2	6

②

		4	10
	5	0	8
-		7	1
	4	3	7

③ 953 - 8

		4	10
	9	5	3
-			8
	9	4	5

④ 716 - 44

		6	10
	7	1	6
-		4	4
	6	7	2

⑤ 474 - 6

		6	10
	4	7	4
-			6
	4	6	8

⑥ 165 - 6

		5	10
	1	6	5
-			6
	1	5	9