



たし算と  
ひき算の筆算 13

● 3けた-1けた  
(くり下がりあり)



日にち： 月 日


名まえ \_\_\_\_\_

・ 次の計算を筆算でしましょう。


$$\begin{array}{r} \textcircled{1} \quad 833 \\ - \quad \quad 7 \\ \hline \end{array}$$

$$\begin{array}{r} \textcircled{2} \quad 508 \\ - \quad \quad 71 \\ \hline \end{array}$$


$$\textcircled{3} \quad 953 - 8$$



$$\textcircled{4} \quad 716 - 44$$



$$\textcircled{5} \quad 474 - 6$$



$$\textcircled{6} \quad 165 - 6$$



