



たし算と  
ひき算の筆算 5

● 3けた+2けた  
(くり上がりあり)



日にち： 月 日

名まえ \_\_\_\_\_



・ 次の計算を筆算でしましょう。

① 
$$\begin{array}{r} 16 \\ + 385 \\ \hline \end{array}$$

② 
$$\begin{array}{r} 487 \\ + 367 \\ \hline \end{array}$$



③  $48 + 166$

④  $363 + 589$



⑤  $583 + 91$

⑥  $69 + 667$





たし算と  
ひき算の筆算 5

● 3けた+2けた  
(くり上がりあり)



日にち： 月 日

名まえ \_\_\_\_\_

・ 次の計算を筆算でしましょう。

$$\begin{array}{r} \text{①} \quad \begin{array}{r} | \quad | \\ 16 \\ + 385 \\ \hline 401 \end{array} \end{array}$$

$$\begin{array}{r} \text{②} \quad \begin{array}{r} | \quad | \\ 487 \\ + 367 \\ \hline 854 \end{array} \end{array}$$

③  $48 + 166$

		4	8
+	1	6	6
<hr/>			
	2	1	4

④  $363 + 589$

	3	6	3
+	5	8	9
<hr/>			
	9	5	2

⑤  $583 + 91$

	5	8	3
+		9	1
<hr/>			
	6	7	4

⑥  $69 + 667$

		6	9
+	6	6	7
<hr/>			
	7	3	6