



# 小数の意味と表し方8

mmをcmになおす



日にち： 月 日

名まえ \_\_\_\_\_

1  にあてはまる数を書きましょう。

① 4 cm 4 mm =  cm

⑤ 8 cm 1 mm =  cm

② 6 mm =  cm

⑥ 5 cm 1 mm =  cm

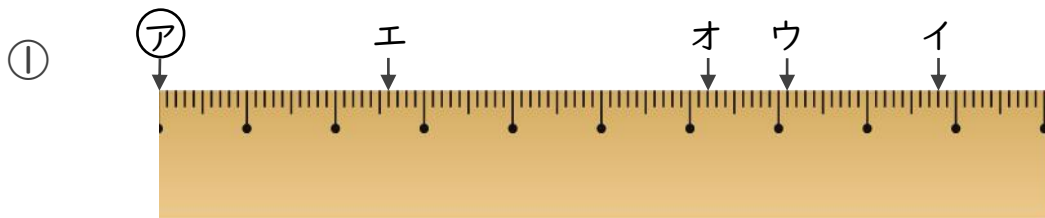
③ 9 mm =  cm

⑦ 5 mm =  cm

④ 41 cm 9 mm =  cm

⑧ 46 cm 5 mm =  cm

2 ㉠からイ、ウ、エ、オまでの長さは、それぞれ何cmですか。

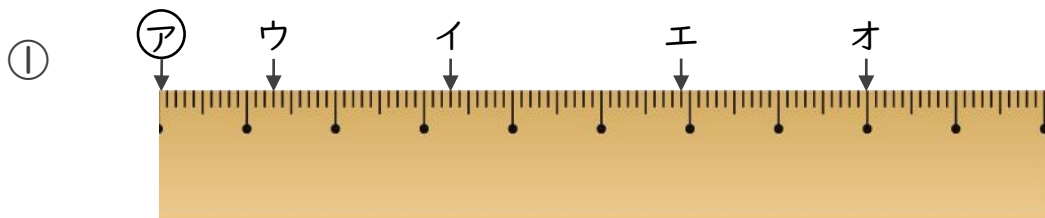


答え ㉠からイ

㉠からウ

㉠からエ

㉠からオ



答え ㉠からイ

㉠からウ

㉠からエ

㉠からオ



# 小数の意味と表し方8

mmをcmになおす



日にち：            月            日

名まえ \_\_\_\_\_

1  にあてはまる数を書きましょう。

① 4 cm 4 mm = **4.4** cm

⑤ 8 cm 1 mm = **8.1** cm

② 6 mm = **0.6** cm

⑥ 5 cm 1 mm = **5.1** cm

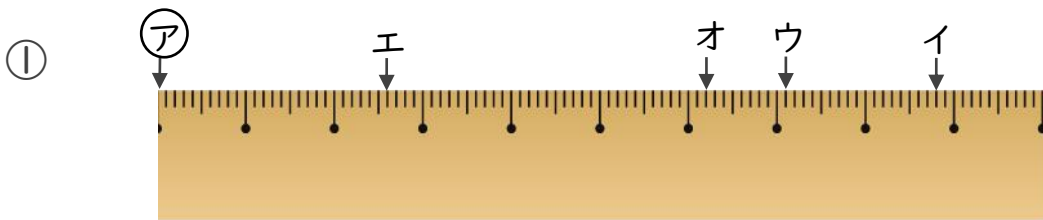
③ 9 mm = **0.9** cm

⑦ 5 mm = **0.5** cm

④ 41 cm 9 mm = **41.9** cm

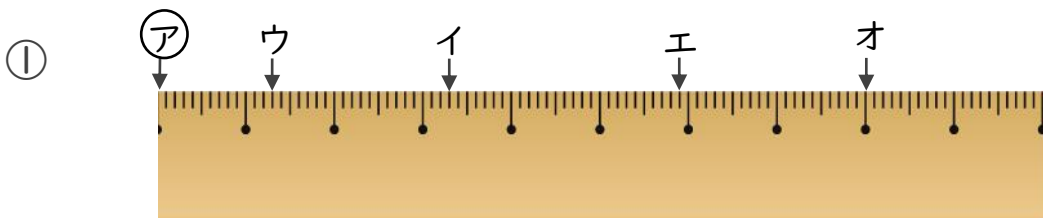
⑧ 46 cm 5 mm = **46.5** cm

2 ㉞からイ、ウ、エ、オまでの長さは、それぞれ何cmですか。



答え ㉞からイ **8.8** cm      ㉞からウ **7.1** cm

㉞からエ **2.6** cm      ㉞からオ **6.2** cm



答え ㉞からイ **3.3** cm      ㉞からウ **1.3** cm

㉞からエ **5.9** cm      ㉞からオ **8** cm

