



長いものの長さの
はかり方と表し方 2

● まきじゃくへの書きこみ

12

日にち： 月 日

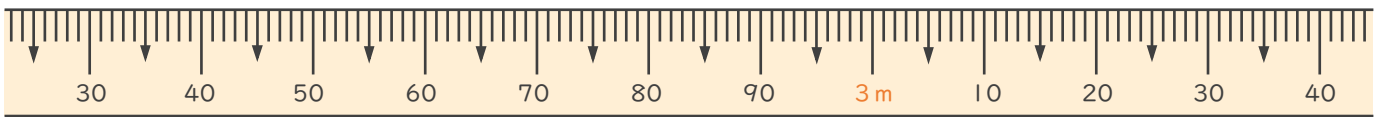
名まえ _____

1 次のまきじゃくで、①～③の長さながを表すメモリあらわに↓をかきましょう。

① 2 m 41 cm

② 2 m 80 cm

③ 3 m 9 cm

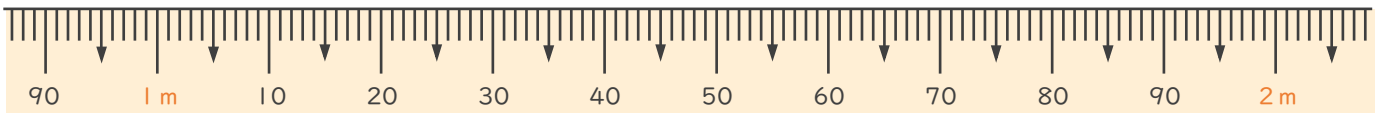


2 次のまきじゃくで、①～③の長さながを表すメモリあらわに↓をかきましょう。

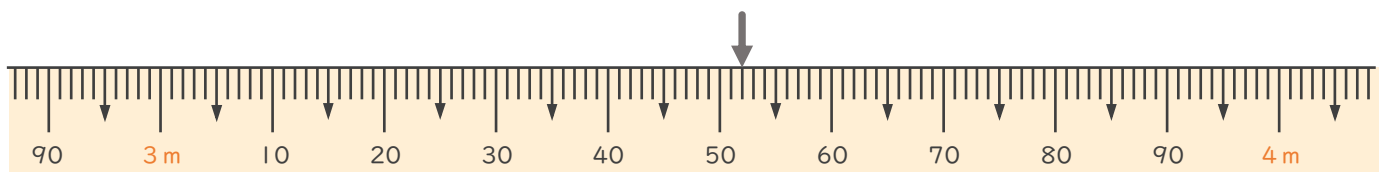
① 1 m 1 cm

② 1 m 25 cm

③ 1 m 86 cm



3 次のまきじゃくで、↓のメモリあらわが表している長さながを読み取りよとしましょう。



答え ()



長いものの長さの はかり方と表し方 2

まきじゃくへの書きこみ

12

日にち： 月 日

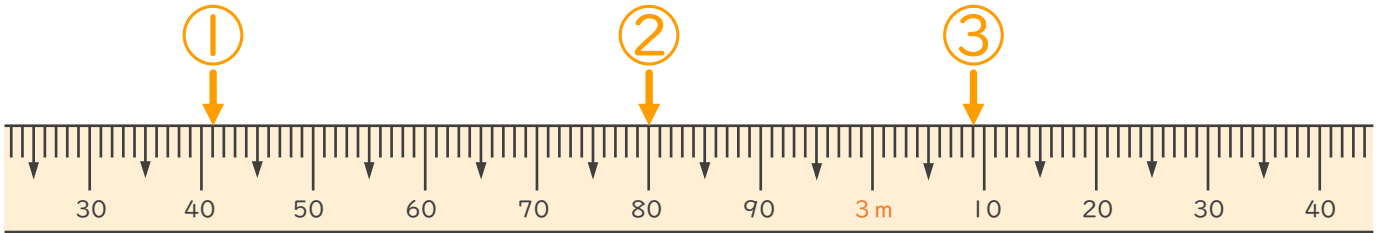
名まえ _____

1 次のまきじゃくで、①～③の長さを表すメモリに ↓ をかきましょう。

① 2 m 41 cm

② 2 m 80 cm

③ 3 m 9 cm

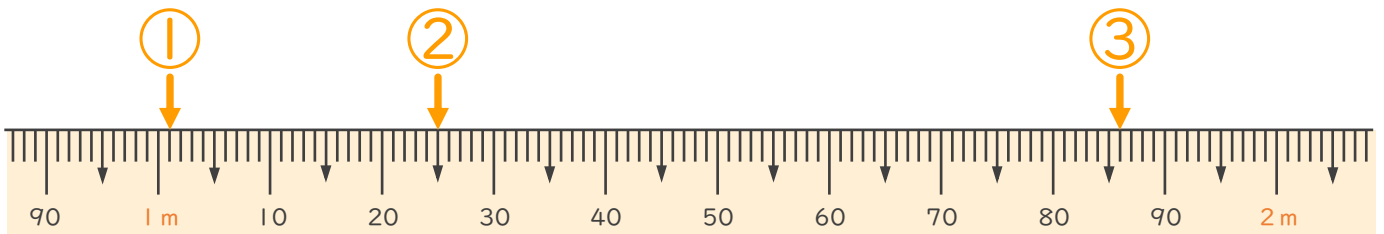


2 次のまきじゃくで、①～③の長さを表すメモリに ↓ をかきましょう。

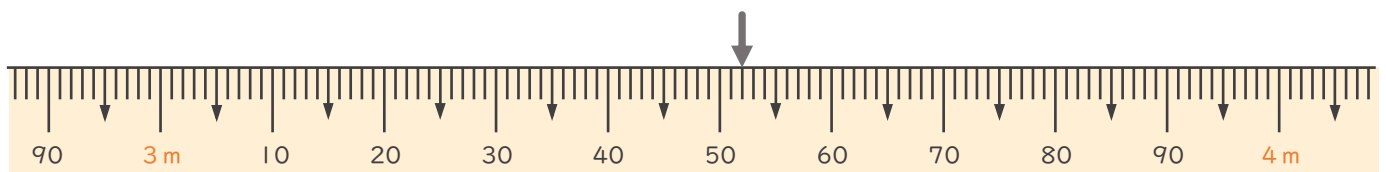
① 1 m 1 cm

② 1 m 25 cm

③ 1 m 86 cm



3 次のまきじゃくで、↓ のメモリが表している長さを読み取りましょう。



答え (3 m 52 cm)

