



円と球 7

コンパスで長さ比べ



日にち： 月 日

名まえ _____

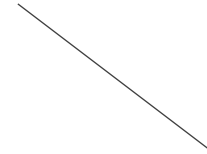
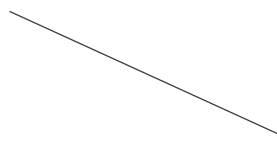
1 次の直線の長さをくらべ、長いじゆんに答えましょう。

①

ア

イ

ウ



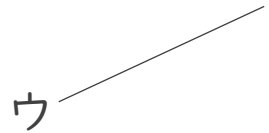

答え： → →

②

ア


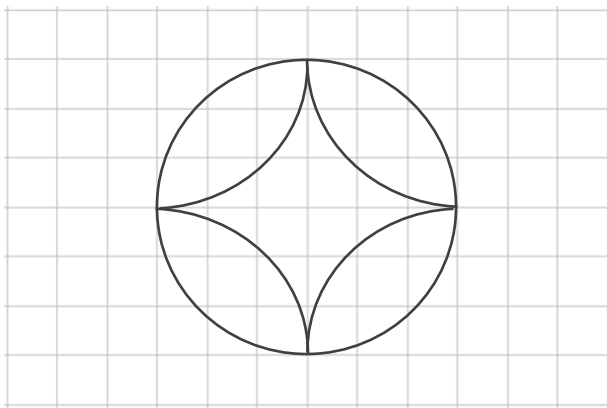
イ

ウ



答え： → →

2 コンパスを使って、次のもようをかきましょう。





円と球 7

コンパスで長さ比べ

12

日にち： 月 日

名まえ

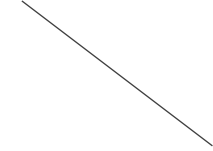
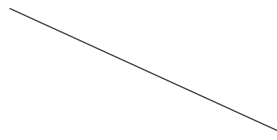
1 次の直線の長さをくらべ、長いじゆんに答えましょう。

①

ア

イ

ウ



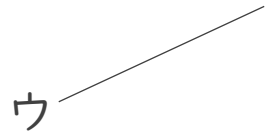

答え： イ → ウ → ア

②

ア

イ

ウ



答え： ア → イ → ウ

2 コンパスを使って、次のもようをかきましょう。

