



分数 9

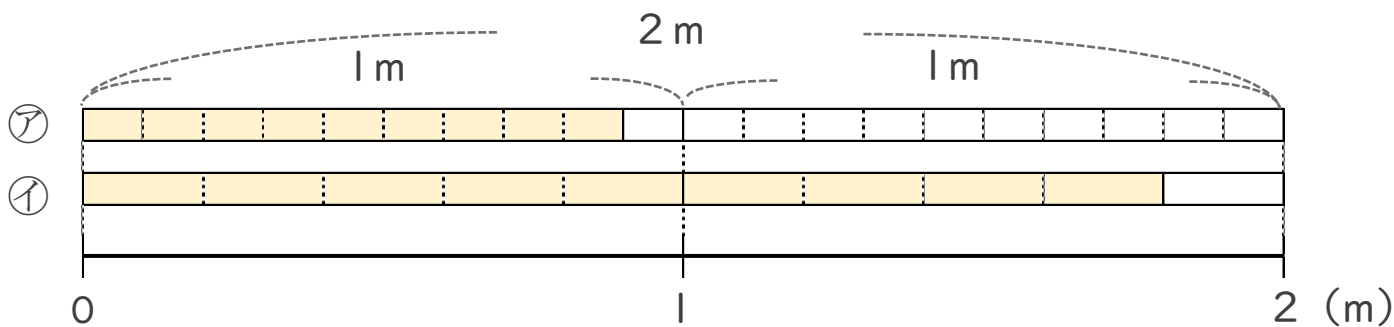
● 分数で表される
りょうとわり合



日にち： 月 日

名まえ _____

1 次の図を見て答えましょう。



① 色のついた長さを「2mの $\frac{\square}{\square}$ 」と表してみましよう。

ア 2mの _____

イ 2mの _____

② ア, イの色のついたテープの長さはそれぞれ何mですか。

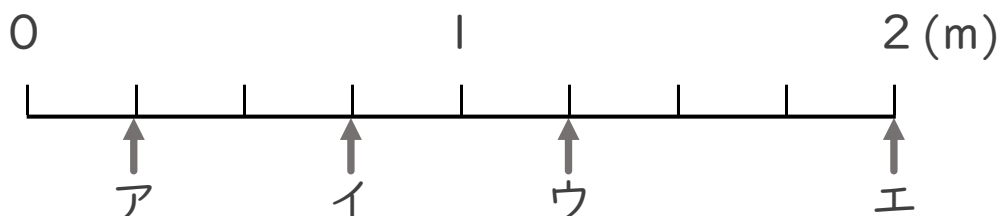
ア _____

m

イ _____

m

2 ア～エのめもりが表す長さは、それぞれ何mですか。



ア _____

m

イ _____

m

ウ _____

m

エ _____

m





分数 9

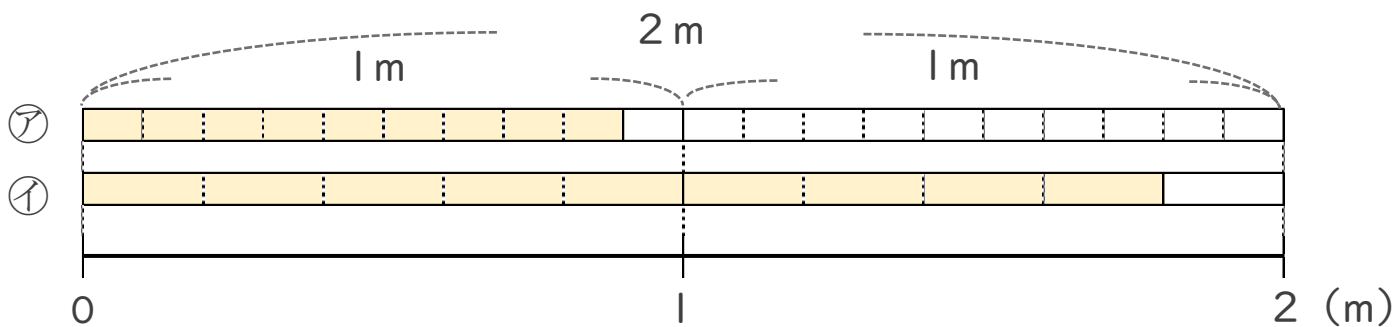
● 分数で表される
りょうとわり合



日にち： 月 日

名まえ _____

1 次の図を見て答えましょう。



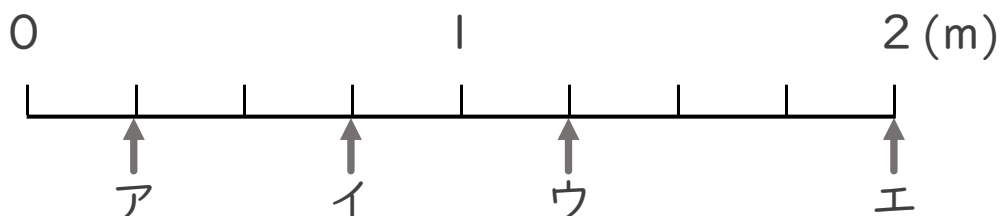
① 色のついた長さを「2mの $\frac{\square}{\square}$ 」と表してみましょう。

ア 2m の $\frac{9}{20}$ イ 2m の $\frac{9}{10}$

② ア, イの色のついたテープの長さはそれぞれ何mですか。

ア $\frac{9}{10}$ m イ $\frac{9}{5}$ m

2 ア～エのめもりが表す長さは、それぞれ何mですか。



ア $\frac{1}{4}$ m イ $\frac{3}{4}$ m ウ $\frac{5}{4}$ m エ 2 m