



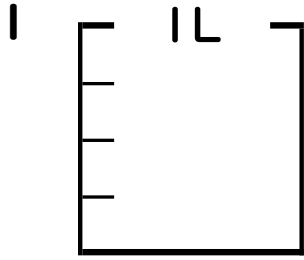
分数 5

● 分数の水のかさの色ぬり



日にち： 月 日

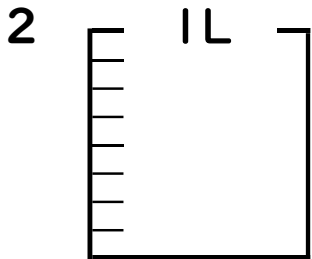
名まえ _____



① $\frac{1}{4}$ Lの 3 ぶんだけ色をぬりましょう。

② 色をぬったところのかさは何Lですか。

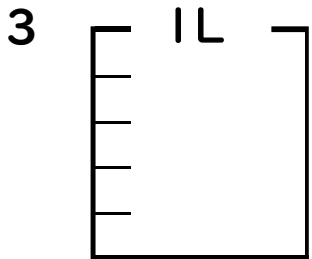
_____ L



① $\frac{1}{8}$ Lの 7 ぶんだけ色をぬりましょう。

② 色をぬったところのかさは何Lですか。

_____ L

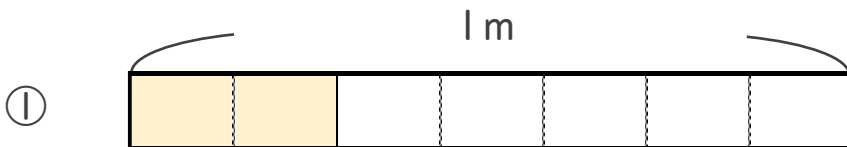


① $\frac{1}{5}$ Lの 2 ぶんだけ色をぬりましょう。

② 色をぬったところのかさは何Lですか。

_____ L

4 色をぬったところの長さは、何mでしょう。



こたえ： _____ m



こたえ： _____ m





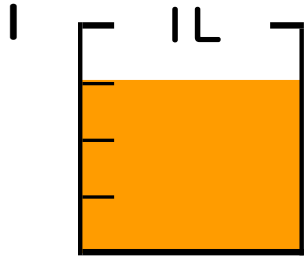
分数 5

● 分数の水のかさの色ぬり

12

日にち： 月 日

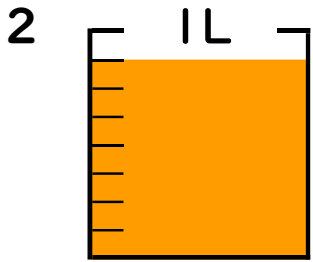
名まえ _____



① $\frac{1}{4}$ Lの 3 こ分だけ色をぬりましょう。

② 色をぬったところのかさは何Lですか。

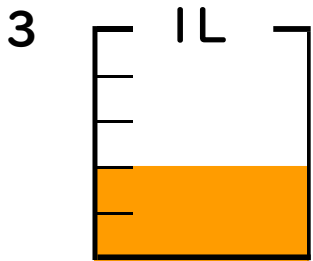
$\frac{3}{4}$ L



① $\frac{1}{8}$ Lの 7 こ分だけ色をぬりましょう。

② 色をぬったところのかさは何Lですか。

$\frac{7}{8}$ L

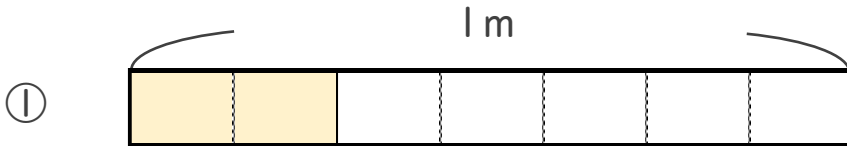


① $\frac{1}{5}$ Lの 2 こ分だけ色をぬりましょう。

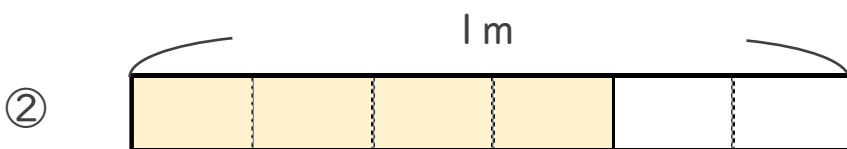
② 色をぬったところのかさは何Lですか。

$\frac{2}{5}$ L

4 色をぬったところの長さは、何mでしょう。



こたえ： $\frac{2}{7}$ m



こたえ： $\frac{4}{6}$ m

