

分数 3

● 分数の長さの色ぬり

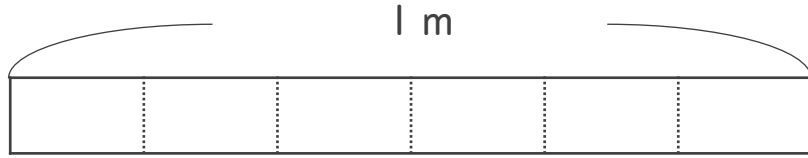


日にち： 月 日

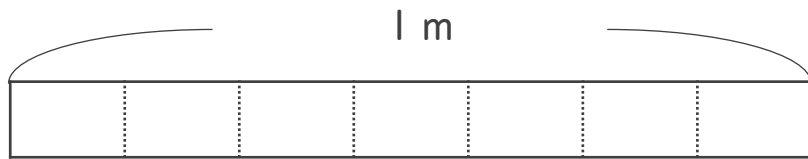
名まえ _____

1 次の長さの分だけ色をぬりましょう。

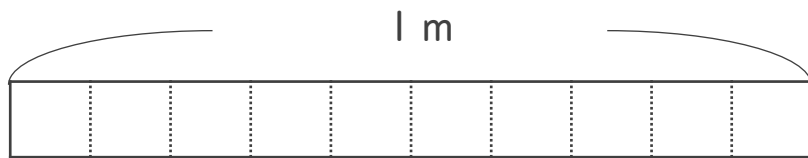
① $\frac{1}{6}$ m



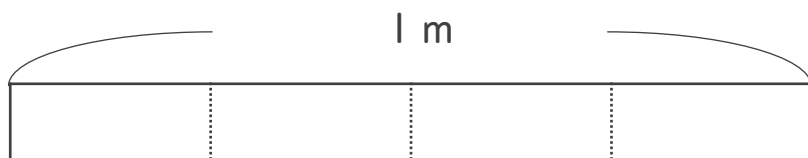
② $\frac{4}{7}$ m



③ $\frac{9}{10}$ m



④ $\frac{3}{4}$ m



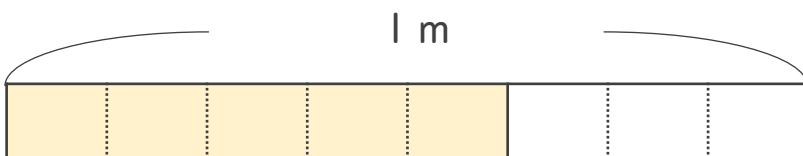
2 色をぬったところの長さは、何mでしょう。

①



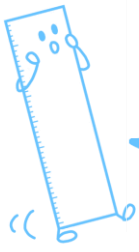
こたえ： _____ m

②



こたえ： _____ m





分数 3

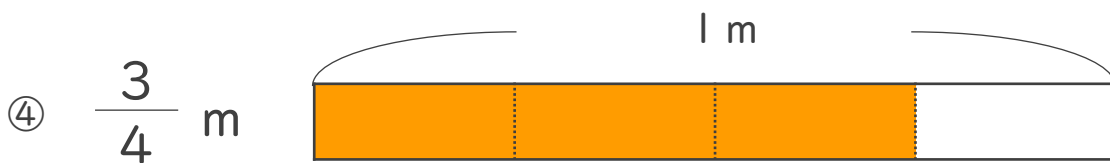
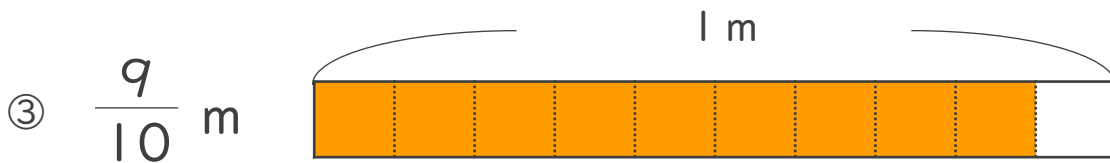
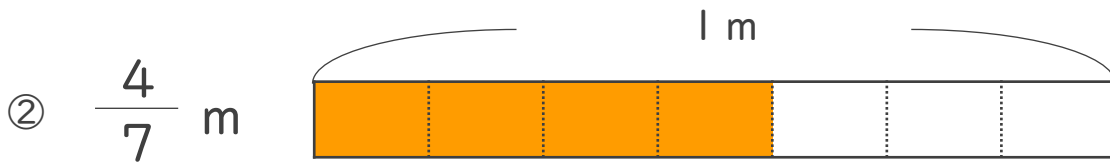
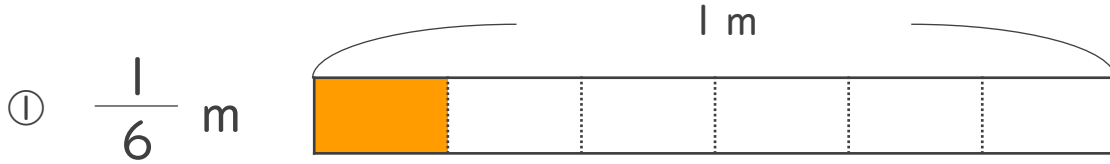
● 分数の長さの色ぬり



日にち： 月 日

名まえ _____

1 次の長さの分だけ色をぬりましょう。



2 色をぬったところの長さは、何mでしょう。

