



分数 2

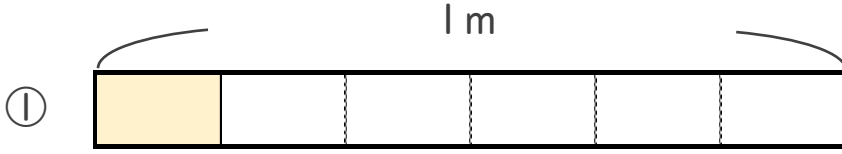
● 分数の長さの読み取り



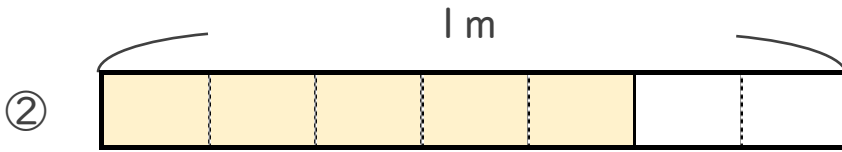
日にち： 月 日

名まえ

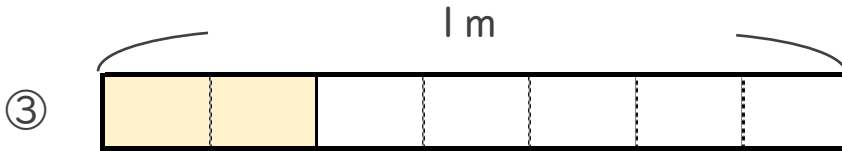
・ 色をぬったところの長さは、何mでしょう。



こたえ： _____ m



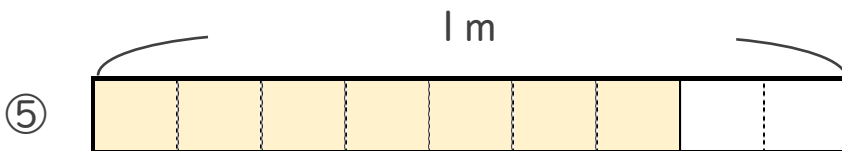
こたえ： _____ m



こたえ： _____ m



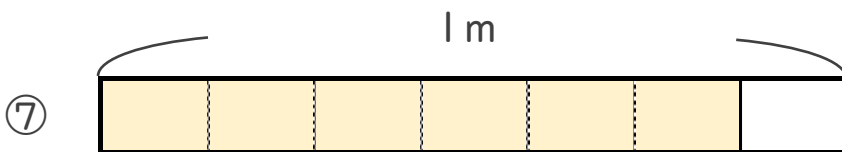
こたえ： _____ m



こたえ： _____ m



こたえ： _____ m



こたえ： _____ m





分数 2

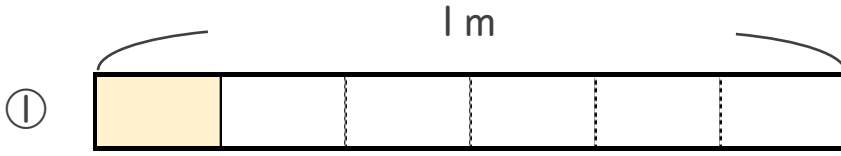
● 分数の長さの読み取り



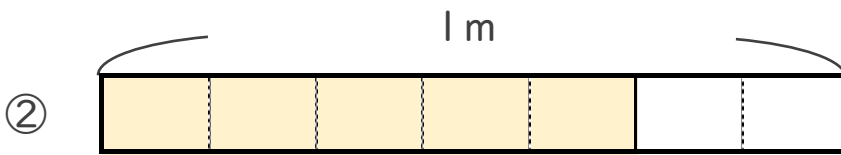
日にち： 月 日

名まえ

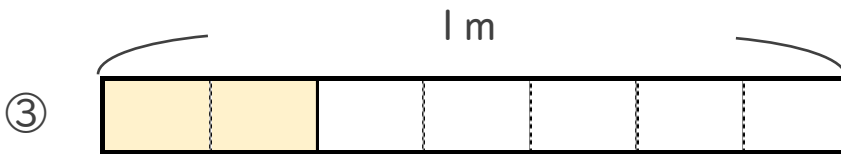
・ 色をぬったところの長さは、何mでしょう。



こたえ： $\frac{1}{6}$ m



こたえ： $\frac{5}{7}$ m




こたえ： $\frac{2}{7}$ m



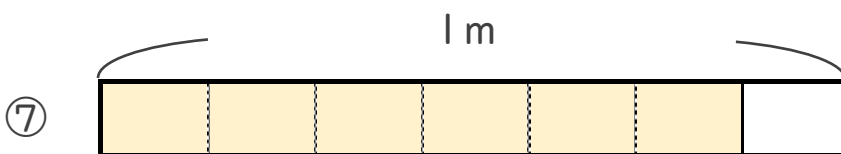
こたえ： $\frac{2}{3}$ m



こたえ： $\frac{7}{9}$ m



こたえ： $\frac{4}{5}$ m



こたえ： $\frac{6}{7}$ m

