



小数のたし算とひき算 II

● 差が整数か真小数になる筆算



日にち： 月 日

名まえ _____

・ 次の計算をしなさい。

① $5.7 - 2.7 =$

② $4.2 - 3.5 =$

③ $6.8 - 5.2 =$

④ $3.6 - 2.6 =$

	5.6	
-	4.7	
<hr/>		



	8.2	
-	7.1	
<hr/>		

	9	
-	6.4	
<hr/>		

⑧ $7.3 - 3.3$

⑨ $6.8 - 5.9$


⑩ $4.2 - 2$



⑪ $8.1 - 7.7$

⑫ $5 - 3.5$

⑬ $6.4 - 5.7$





小数のたし算とひき算 II

● 差が整数か真小数になる筆算



日にち： 月 日

名まえ _____

・ 次の計算をしなさい。

① $5.7 - 2.7 = 3$

② $4.2 - 3.5 = 0.7$

③ $6.8 - 5.2 = 1.6$

④ $3.6 - 2.6 = 1$

⑤

	5 .6
-	4.7
<hr/>	
	0.9

⑥

	8.2
-	7.1
<hr/>	
	1.1

⑦

	9 .0
-	6.4
<hr/>	
	2.6

⑧ $7.3 - 3.3$

⑨ $6.8 - 5.9$

⑩ $4.2 - 2$

⑧

	7.3
-	3.3
<hr/>	
	4.0

⑨

	6 .8
-	5.9
<hr/>	
	0.9

⑩

	4.2
-	2.0
<hr/>	
	2.2

⑪ $8.1 - 7.7$

⑫ $5 - 3.5$

⑬ $6.4 - 5.7$

⑪

	8 .1
-	7.7
<hr/>	
	0.4

⑫

	5 .0
-	3.5
<hr/>	
	1.5

⑬

	6 .4
-	5.7
<hr/>	
	0.7

