



小数の意味と表し方 10

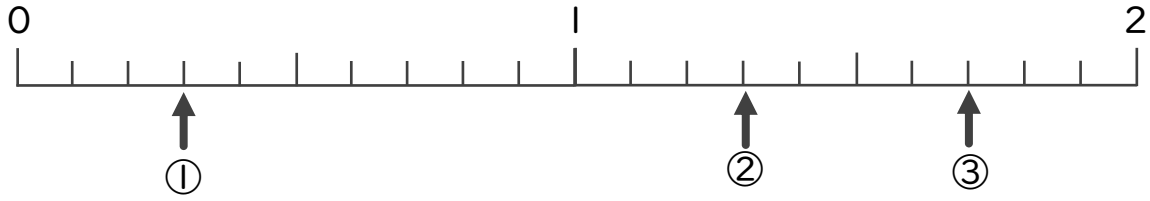
数直線の小数の読みとり



日にち： 月 日

名まえ

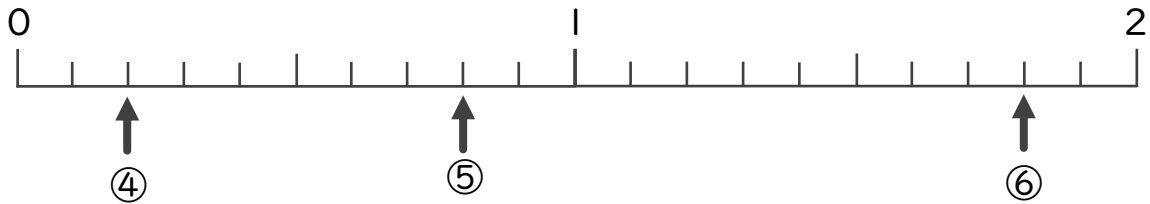
下の数直線を見て ↑ のめもりが表す数を書きましょう。



①

②

③

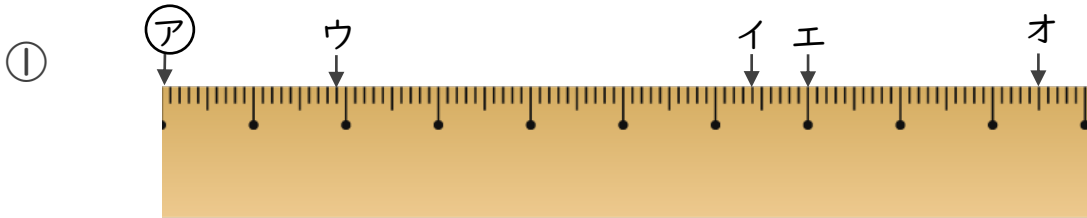


④

⑤

⑥

2 アからイ、ウ、エ、オまでの長さは、それぞれ何cmですか。



答え

アからイ

アからウ

アからエ

アからオ



小数の意味と表し方 10

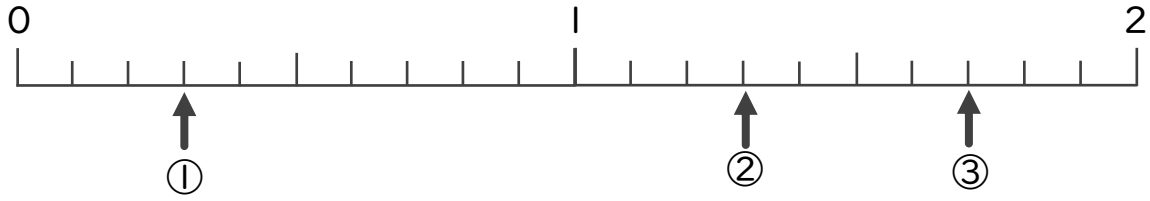
数直線の小数の読みとり



日にち： 月 日

名まえ

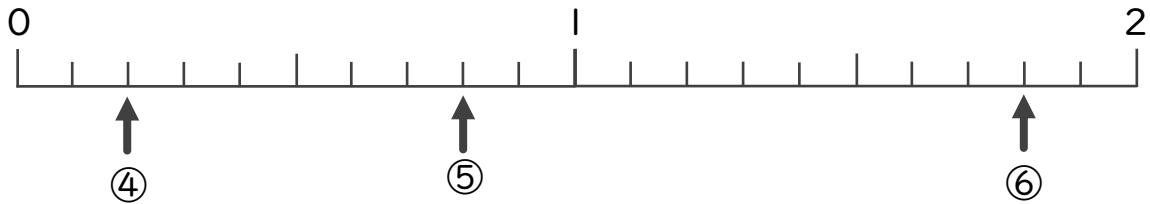
下の数直線を見て ↑ のめもりが表す数を書きましょう。



① 0.3

② 1.3

③ 1.7

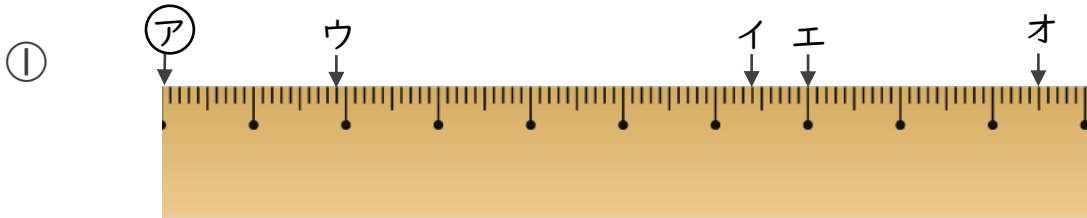


④ 0.2

⑤ 0.8

⑥ 1.8

2 ㉞からイ、ウ、エ、オまでの長さは、それぞれ何cmですか。



答え ㉞からイ 6.4 cm ㉞からウ 1.9 cm

㉞からエ 7 cm ㉞からオ 9.5 cm