



# 小数の意味と表し方3

◎ 水のかさ (帯小数)

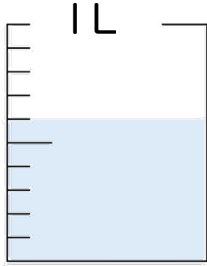


日にち：            月            日

名まえ \_\_\_\_\_

・ 水のかさは、何Lでしょう。(うすい字はなぞりましょう。)

①



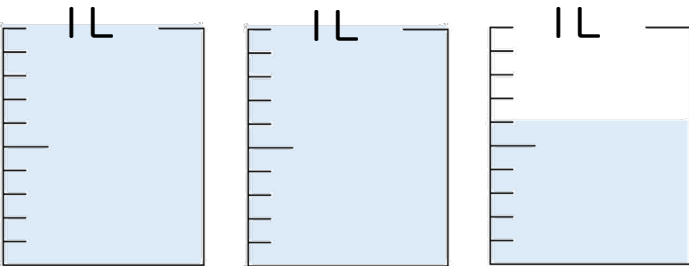
答え 0.6 L

②



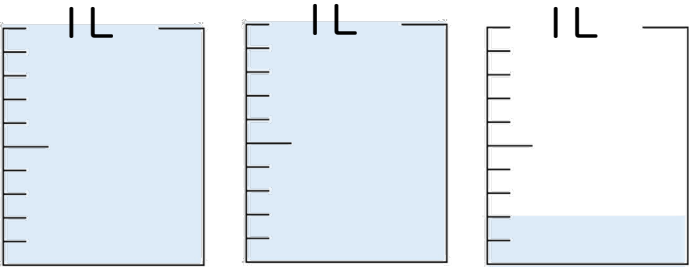
答え \_\_\_\_\_ L

③



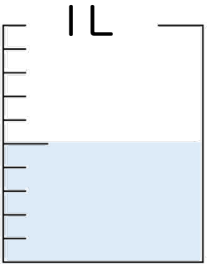
答え \_\_\_\_\_ L

④



答え \_\_\_\_\_ L

⑤



答え \_\_\_\_\_ L





# 小数の意味と表し方3

◎ 水のかさ (帯小数)

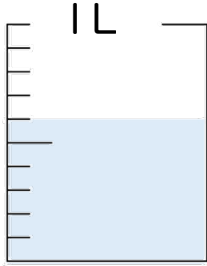


日にち：            月            日

名まえ \_\_\_\_\_

・ 水のかさは、何Lでしょう。(うすい字はなぞりましょう。)

①



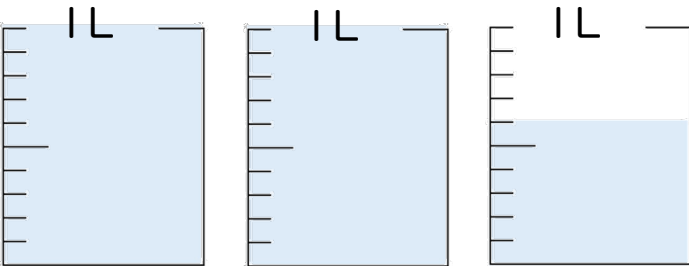
答え 0.6 L

②



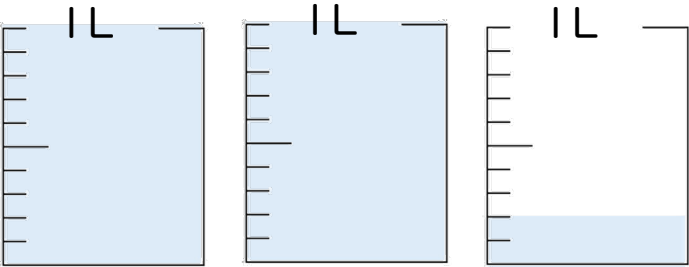
答え 1 L

③



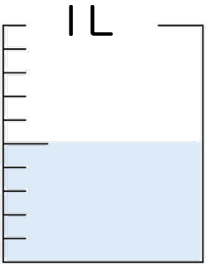
答え 2.6 L

④



答え 2.2 L

⑤



答え 0.5 L

