



円と球 10

● 球の半径や直径の長さ

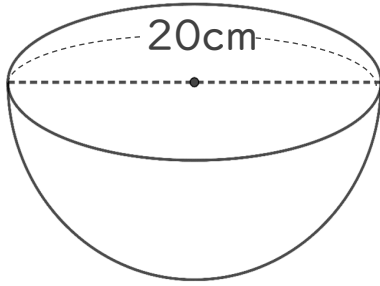
12

日にち： 月 日

名まえ _____

・ 次の円の半径や直径は何cmですか。

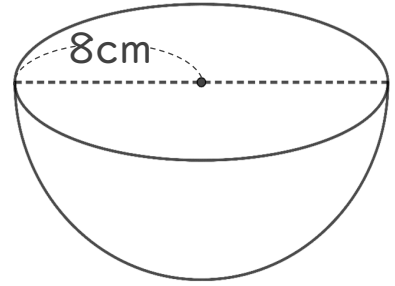
① 半径は何cmですか。



式：

答え： _____

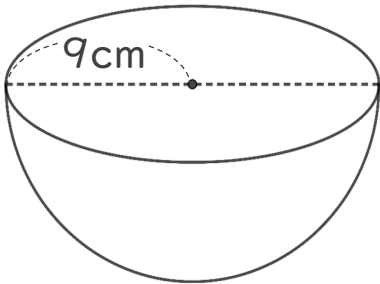
③ 直径は何cmですか。



式：

答え： _____

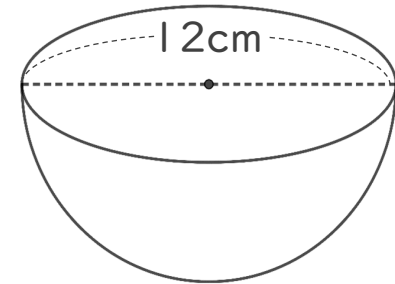
② 直径は何cmですか。



式：

答え： _____

④ 半径は何cmですか。



式：

答え： _____



円と球 10

● 球の半径や直径の長さ

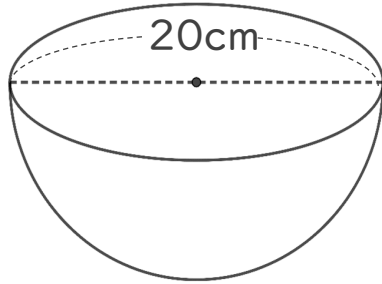
12

日にち： 月 日

名まえ _____

・ 次の円の半径や直径は何cmですか。

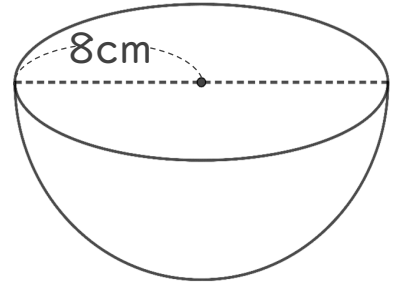
① 半径は何cmですか。



式： $20 \div 2 = 10$

答え：10 cm

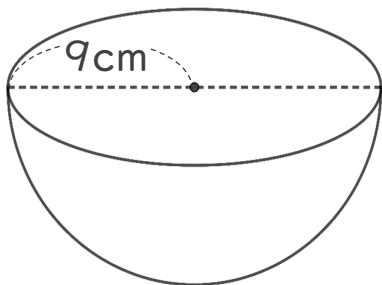
③ 直径は何cmですか。



式： $8 \times 2 = 16$

答え：16 cm

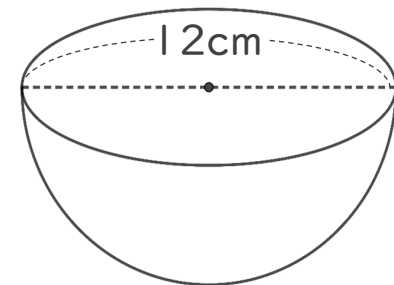
② 直径は何cmですか。



式： $9 \times 2 = 18$

答え：18 cm

④ 半径は何cmですか。



式： $12 \div 2 = 6$

答え：6 cm