



三角形と角 10

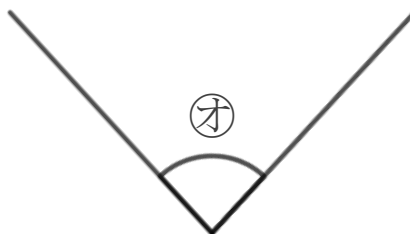
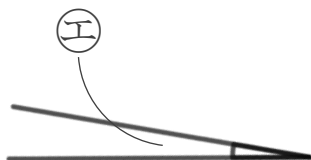
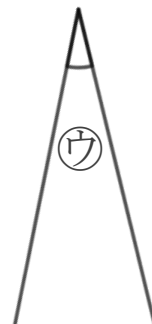
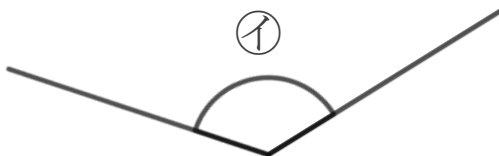
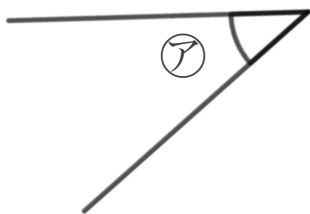
● 角を大きい
じゅんにならべる

12

日にち： 月 日

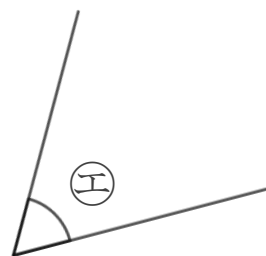
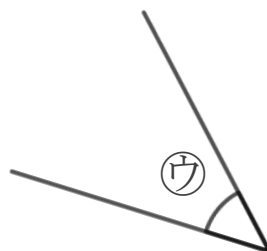
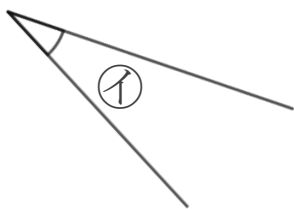
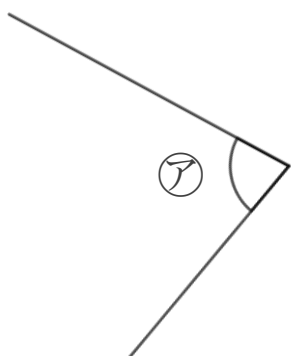
名まえ _____

1 次の角の大きさをくらべて、大きいじゅんに書きましょう。



答え： → → → →

2 次の角を見つけて、ア～エで答えましょう。



① いちばん大きい角 答え： _____

② いちばん小さい角 答え： _____





三角形と角 10

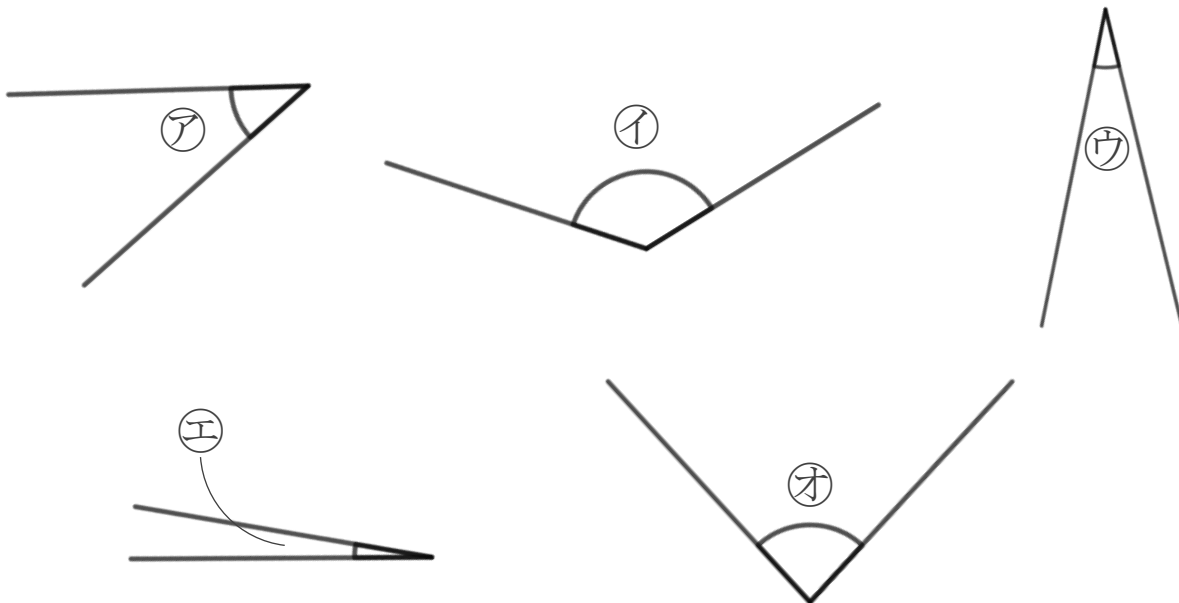
● 角を大きい
じゅんにならべる

12

日にち： 月 日

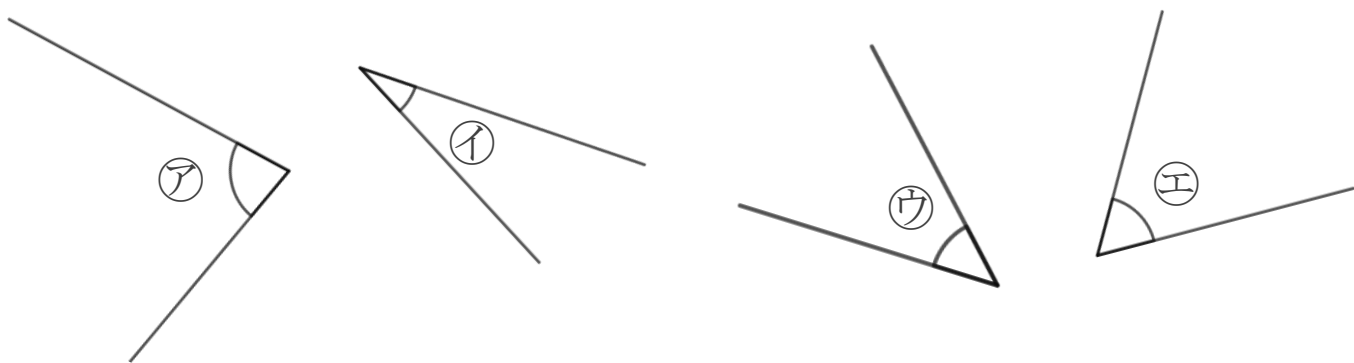
名まえ _____

1 次の角の大きさをくらべて、大きいじゅんに書きましょう。



答え： イ → オ → ア → ウ → エ

2 次の角を見つけて、ア～エで答えましょう。



① いちばん大きい角

答え：

ア

② いちばん小さい角

答え：

イ

