



分数 8

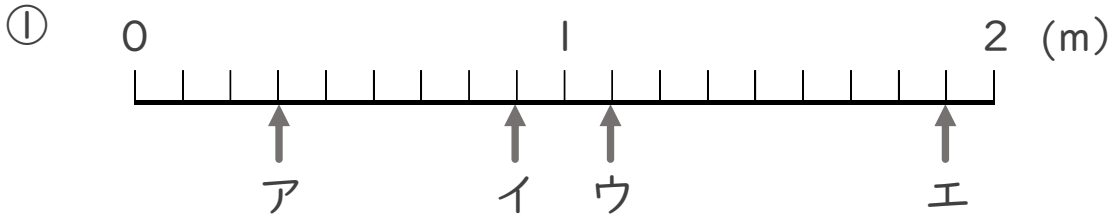
● 1より大きい分数を
数直線に表す



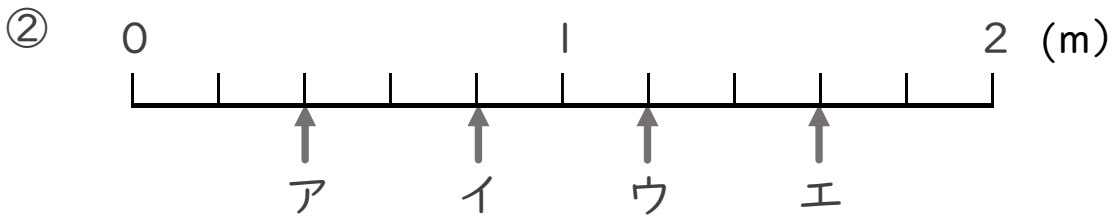
日にち： 月 日

名まえ _____

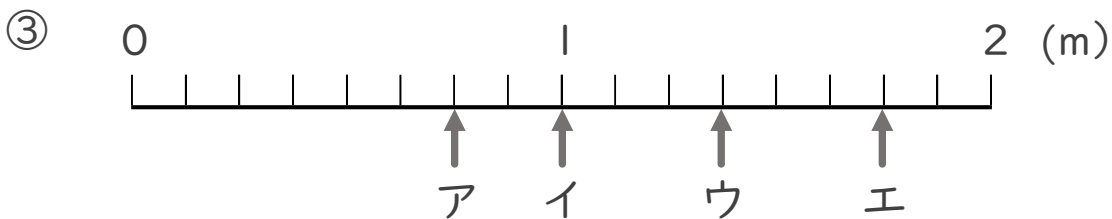
・ ア～エのめもりが表す長さは、それぞれ何mですか。



答え ア $\frac{3}{9}$ m イ $\frac{8}{9}$ m ウ $\frac{10}{9}$ m エ $\frac{17}{9}$ m



答え ア $\frac{2}{5}$ m イ $\frac{4}{5}$ m ウ $\frac{6}{5}$ m エ $\frac{8}{5}$ m



答え ア $\frac{6}{8}$ m イ 1 m ウ $\frac{11}{8}$ m エ $\frac{14}{8}$ m