



分数 7

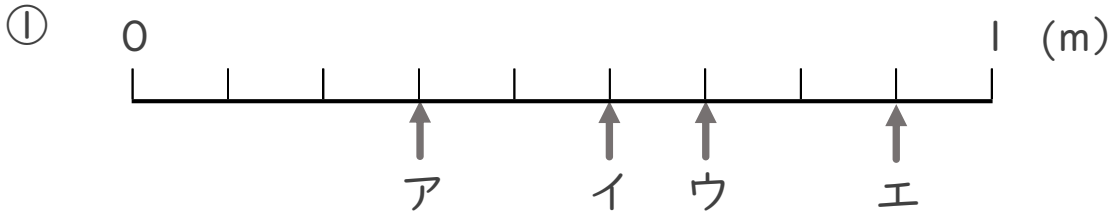
● 1より小さい分数を数直線に表す



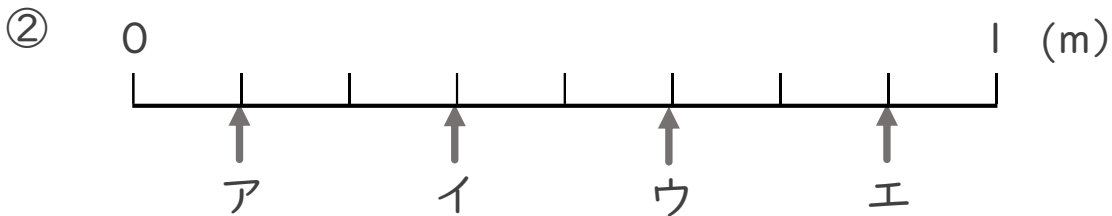
日にち： 月 日

名まえ _____

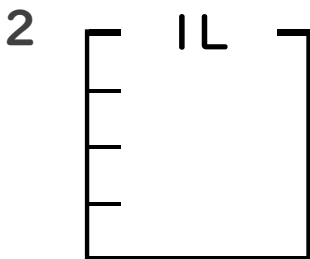
1 ア～エのめもりが表す長さは、それぞれ何mですか。



答え ア _____ m イ _____ m ウ _____ m エ _____ m



答え ア _____ m イ _____ m ウ _____ m エ _____ m



① $\frac{1}{4}$ Lの3こ分だけ色をぬりましょう。

② 色をぬったところのかさは何Lですか。 _____ L



分数 7

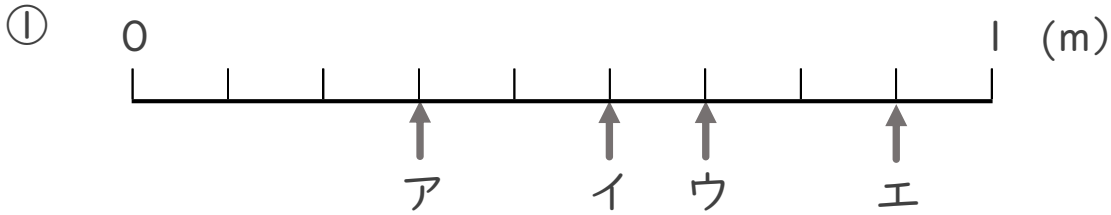
1より小さい分数を数直線に表す



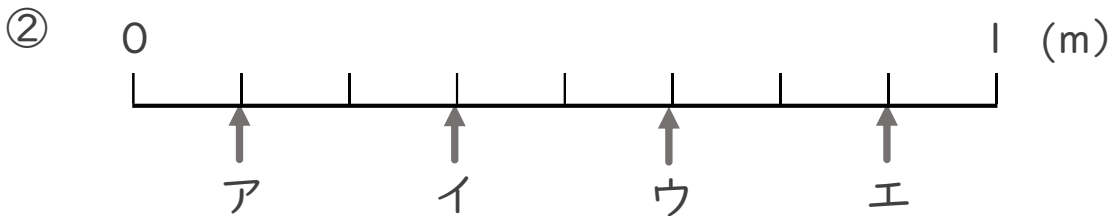
日にち： 月 日

名まえ _____

1 ア～エのめもりが表す長さは、それぞれ何mですか。



答え ア $\frac{3}{8}$ m イ $\frac{5}{8}$ m ウ $\frac{6}{8}$ m エ $\frac{8}{8}$ m



答え ア $\frac{1}{8}$ m イ $\frac{3}{8}$ m ウ $\frac{5}{8}$ m エ $\frac{7}{8}$ m



① $\frac{1}{4}$ Lの3こ分だけ色をぬりましょう。

② 色をぬったところのかさは何Lですか。 $\frac{3}{4}$ L