



かけ算の筆算 25

● 2けた × 2けたのかけ算
(千の位にくり上がる)




日にち： 月 日


名まえ _____

・ 次の計算を筆算でしましょう。


① 26×39




③ 29×13



② 53×21



④ 32×28





かけ算の筆算 25

● 2けた × 2けたのかけ算
(千の位にくり上がる)



日にち： 月 日

名まえ _____

・ 次の計算を筆算でしましょう。

① 26×39

		2	6
	×	3	9
<hr/>			
	2	3 ⁵	4
	7 ¹	8	
<hr/>			
1 ¹	0 ¹	1	4

③ 29×13

		2	9
	×	1	3
<hr/>			
		8 ²	7
	2	9	
<hr/>			
3 ¹	7	7	

② 53×21

		5	3
	×	2	1
<hr/>			
		5	3
1	0	6	
<hr/>			
1	1 ¹	1	3

④ 32×28

		3	2
	×	2	8
<hr/>			
	2	5 ¹	6
	6	4	
<hr/>			
8	9	6	