



たし算と
ひき算の筆算 1

● 3けたのたし算

12

日にち： 月 日


名まえ

・ 次の計算を筆算でしましょう。


$$\begin{array}{r} \textcircled{1} \quad 654 \\ + 231 \\ \hline \end{array}$$

$$\begin{array}{r} \textcircled{2} \quad 337 \\ + 412 \\ \hline \end{array}$$


$$\textcircled{3} \quad 251 + 101$$




$$\textcircled{4} \quad 645 + 323$$



$$\textcircled{5} \quad 331 + 544$$



$$\textcircled{6} \quad 240 + 256$$





たし算と
ひき算の筆算 1

3けたのたし算

12

日にち： 月 日

名まえ _____

・ 次の計算を筆算でしましょう。

$$\begin{array}{r} \textcircled{1} \quad 6 \ 5 \ 4 \\ + \quad 2 \ 3 \ 1 \\ \hline 8 \ 8 \ 5 \end{array}$$

$$\begin{array}{r} \textcircled{2} \quad 3 \ 3 \ 7 \\ + \quad 4 \ 1 \ 2 \\ \hline 7 \ 4 \ 9 \end{array}$$

③ 251 + 101

	2	5	1
+	1	0	1
<hr/>			
	3	5	2

④ 645 + 323

	6	4	5
+	3	2	3
<hr/>			
	9	6	8

⑤ 331 + 544

	3	3	1
+	5	4	4
<hr/>			
	8	7	5

⑥ 240 + 256

	2	4	0
+	2	5	6
<hr/>			
	4	9	6