



たし算と
ひき算の筆算 Ⅱ

● 3けたのひき算
(くり下がりがりあり)

12

日にち： 月 日


名まえ _____

・ 次の計算を筆算でしましょう。


$$\begin{array}{r} \textcircled{1} \quad 786 \\ - 212 \\ \hline \end{array}$$

$$\begin{array}{r} \textcircled{2} \quad 951 \\ - 523 \\ \hline \end{array}$$


$$\textcircled{3} \quad 508 - 372$$



$$\textcircled{4} \quad 794 - 149$$



$$\textcircled{5} \quad 742 - 380$$



$$\textcircled{6} \quad 479 - 220$$





たし算と
ひき算の筆算 11

● 3けたのひき算
(くり下がりがり)

12

日にち： 月 日

名まえ _____

・ 次の計算を筆算でしましょう。

$$\begin{array}{r} \textcircled{1} \quad 786 \\ - 212 \\ \hline 574 \end{array}$$

$$\begin{array}{r} \textcircled{2} \quad 951 \\ - 523 \\ \hline 428 \end{array}$$

$$\textcircled{3} \quad 508 - 372$$

	⁴ 5	¹⁰ 0	8
-	3	7	2
	1	3	6

$$\textcircled{4} \quad 794 - 149$$

	7	⁸ 9	¹⁰ 4
-	1	4	9
	6	4	5

$$\textcircled{5} \quad 742 - 380$$

	⁶ 7	¹⁰ 4	2
-	3	8	0
	3	6	2

$$\textcircled{6} \quad 479 - 220$$

	4	7	9
-	2	2	0
	2	5	9