



たし算と
ひき算の筆算 14

● 3けたのひき算
(十の位が0)

12

日にち： 月 日

名まえ _____



・ 次の計算を筆算でしましょう。

$$\begin{array}{r} \textcircled{1} \quad 601 \\ - 219 \\ \hline \end{array}$$

$$\begin{array}{r} \textcircled{2} \quad 903 \\ - 698 \\ \hline \end{array}$$



$$\textcircled{3} \quad 438 - 9$$

$$\textcircled{4} \quad 603 - 566$$



$$\textcircled{5} \quad 805 - 597$$

$$\textcircled{6} \quad 462 - 6$$





たし算と
ひき算の筆算 14

● 3けたのひき算
(十の位が0)

12

日にち： 月 日

名まえ _____

・ 次の計算を筆算でしましょう。

①

$$\begin{array}{r} 5 \overset{9}{\cancel{10}} 10 \\ \cancel{6} \cancel{0} 1 \\ - 219 \\ \hline 382 \end{array}$$

②

$$\begin{array}{r} 8 \overset{9}{\cancel{10}} 10 \\ \cancel{9} \cancel{0} 3 \\ - 698 \\ \hline 205 \end{array}$$

③ 438 - 9

		2	10
	4	3	8
-			9
	4	2	9

④ 603 - 566

		5	10	10
	6	0	3	
-	5	6	6	
		3	7	

⑤ 805 - 597

		7	10	10
	8	0	5	
-	5	9	7	
	2	0	8	

⑥ 462 - 6

		4	5	10
	4	6	2	
-			6	
	4	5	6	

