



たし算と
ひき算の筆算 6

● 3けた+1けた
(くり上がりあり)

12

日にち： 月 日


名まえ _____

・ 次の計算を筆算でしましょう。


①
$$\begin{array}{r} 693 \\ + \quad 8 \\ \hline \end{array}$$

②
$$\begin{array}{r} 96 \\ + 504 \\ \hline \end{array}$$


③ $57 + 385$




④ $192 + 9$



⑤ $903 + 97$



⑥ $65 + 278$





たし算と
ひき算の筆算 6

◎ 3けた+1けた
(くり上がりあり)

12

日にち： 月 日

名まえ _____

・ 次の計算を筆算でしましょう。

$$\begin{array}{r} \text{①} \quad \begin{array}{r} | \quad | \\ 6 \quad 9 \quad 3 \\ + \quad \quad 8 \\ \hline 7 \quad 0 \quad 1 \end{array} \end{array}$$

$$\begin{array}{r} \text{②} \quad \begin{array}{r} | \quad | \\ \quad 9 \quad 6 \\ + \quad 5 \quad 0 \quad 4 \\ \hline 6 \quad 0 \quad 0 \end{array} \end{array}$$

③ 57 + 385

		5	7
+	3	8	5
<hr/>			
	4	4	2

④ 192 + 9

	1	9	2
+			9
<hr/>			
	2	0	1

⑤ 903 + 97

		9	0	3
+			9	7
<hr/>				
1	0	0	0	

⑥ 65 + 278

		6	5
+	2	7	8
<hr/>			
3	4	3	