



たし算と
ひき算の筆算 19

12

● 4けたのひき算
(くり下がりが3回)

日にち： 月 日

名まえ _____



・ 次の計算を筆算でしましょう。

$$\begin{array}{r} \textcircled{1} \quad 7112 \\ - 2434 \\ \hline \end{array}$$

$$\begin{array}{r} \textcircled{2} \quad 6126 \\ - 5394 \\ \hline \end{array}$$



$$\textcircled{3} \quad 6312 - 4653$$

$$\textcircled{4} \quad 5180 - 4651$$



$$\textcircled{5} \quad 7325 - 4485$$

$$\textcircled{6} \quad 9205 - 4356$$





たし算と
ひき算の筆算 19

12

◎ 4けたのひき算
(くり下がりが3回)

日にち： 月 日

名まえ _____

・ 次の計算を筆算でしましょう。

①

	6	0	0	10
	7	1	1	2
-	2	4	3	4
	4	6	7	8

②

	5	0	10	
	6	1	2	6
-	5	3	9	4
		7	3	2

③ 6312 - 4653

	5	2	0	10
	6	3	1	2
-	4	6	5	3
	1	6	5	9

④ 5180 - 4651

	4	10	7	10
	5	1	8	0
-	4	6	5	1
		5	2	9

⑤ 7325 - 4485

	6	2	10	
	7	3	2	5
-	4	4	8	5
	2	8	4	0

⑥ 9205 - 4356

	8	10	9	10
	9	2	0	5
-	4	3	5	6
	4	8	4	9