



小数の意味と表し方8

mmをcmになおす



日にち： 月 日

名まえ _____

1 にあてはまる数を書きましょう。

① 2 mm = cm

⑤ 1 cm 2 mm = cm

② 1 cm 9 mm = cm

⑥ 1 mm = cm

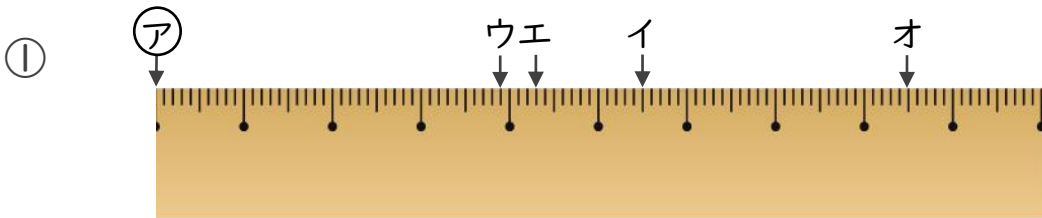
③ 3 mm = cm

⑦ 3 cm 3 mm = cm

④ 74 cm 2 mm = cm

⑧ 84 cm 8 mm = cm

2 ㉠からイ、ウ、エ、オまでの長さは、それぞれ何cmですか。

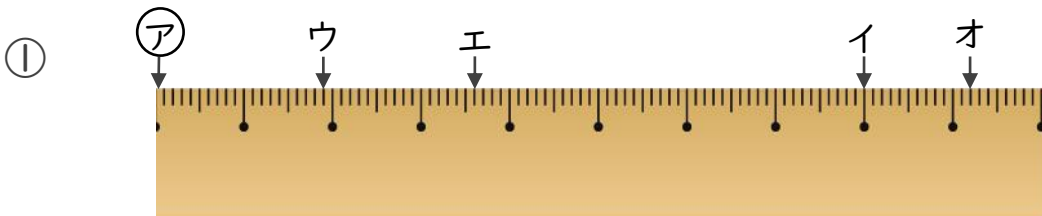


答え ㉠からイ

㉠からウ

㉠からエ

㉠からオ



答え ㉠からイ

㉠からウ

㉠からエ

㉠からオ



小数の意味と表し方8

mmをcmになおす

12

日にち： 月 日

名まえ _____

1 にあてはまる数を書きましょう。

① 2 mm = **0.2** cm

⑤ 1 cm 2 mm = **1.2** cm

② 1 cm 9 mm = **1.9** cm

⑥ 1 mm = **0.1** cm

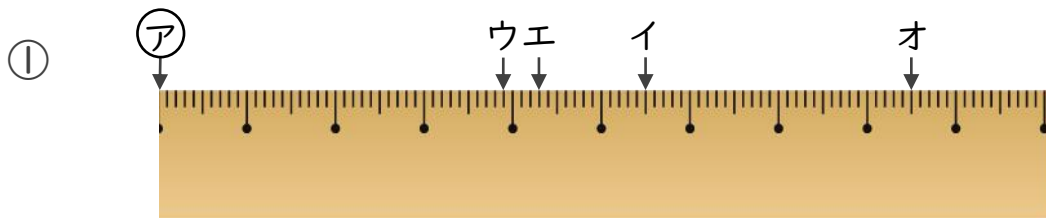
③ 3 mm = **0.3** cm

⑦ 3 cm 3 mm = **3.3** cm

④ 74 cm 2 mm = **74.2** cm

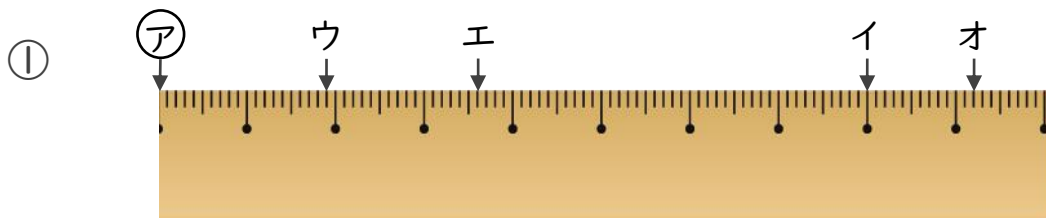
⑧ 84 cm 8 mm = **84.8** cm

2 ㉞からイ、ウ、エ、オまでの長さは、それぞれ何cmですか。



答え ㉞からイ **5.5** cm ㉞からウ **3.9** cm

㉞からエ **4.3** cm ㉞からオ **8.5** cm



答え ㉞からイ **8** cm ㉞からウ **1.9** cm

㉞からエ **3.6** cm ㉞からオ **9.2** cm