



# 長いものの長さの はかり方と表し方 2

● まきじゃくへの書きこみ

13

日にち： 月 日

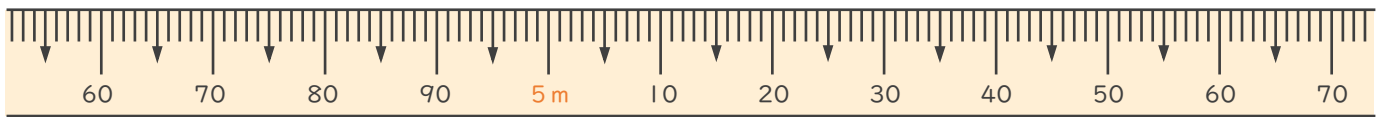
名まえ \_\_\_\_\_

1 次のまきじゃくで、①～③の長さを表すメモりに ↓ をかきましょう。

① 4 m 6 5 c m

② 5 m 7 c m

③ 5 m 6 1 c m

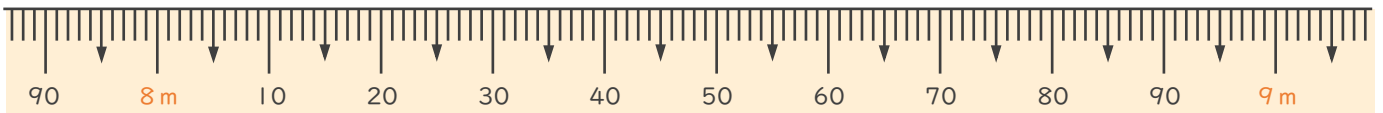


2 次のまきじゃくで、①～③の長さを表すメモりに ↓ をかきましょう。

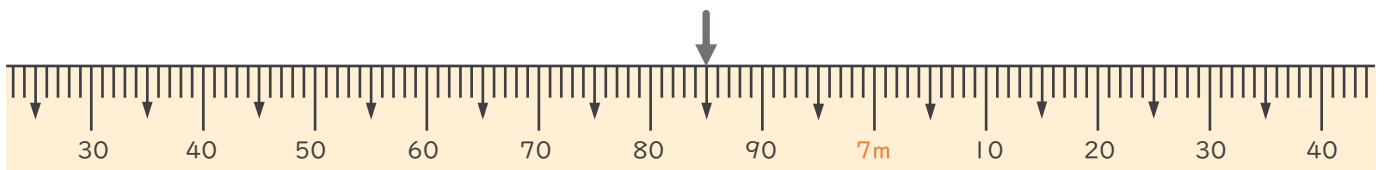
① 7 m 9 5 c m

② 8 m 2 0 c m

③ 8 m 7 4 c m



3 次のまきじゃくで、↓ のメモ리가表している長さを読み取りましょう。



答え ( )



# 長いものの長さの はかり方と表し方 2

● まきじゃくへの書きこみ

13

日にち： 月 日

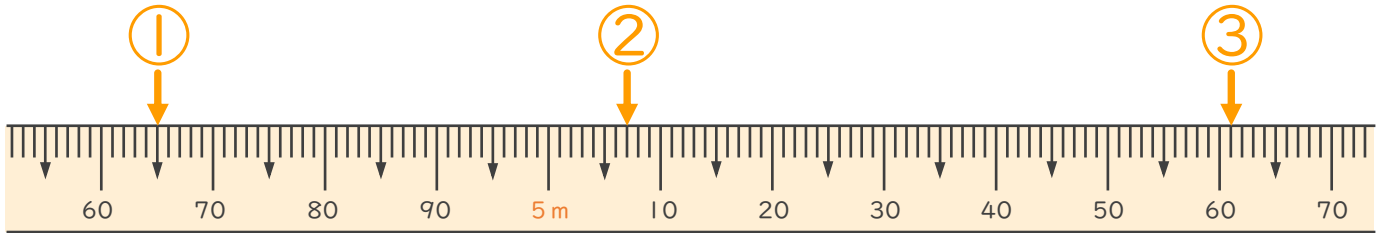
名まえ \_\_\_\_\_

1 次のまきじゃくで、①～③の長さを表すメモリに ↓ をかきましょう。

① 4 m 6 5 c m

② 5 m 7 c m

③ 5 m 6 1 c m

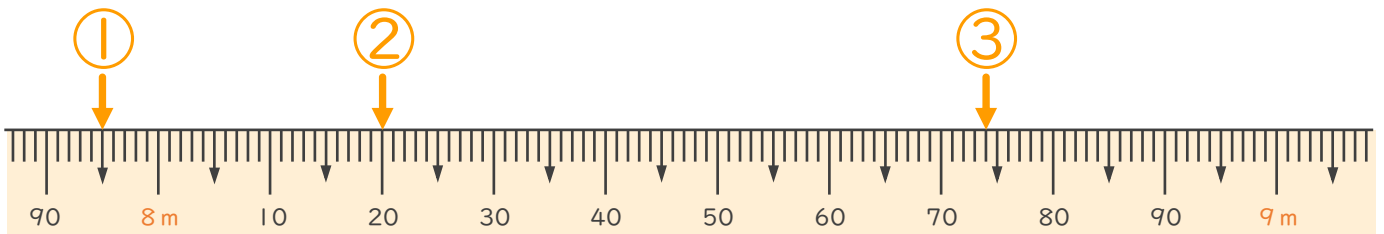


2 次のまきじゃくで、①～③の長さを表すメモリに ↓ をかきましょう。

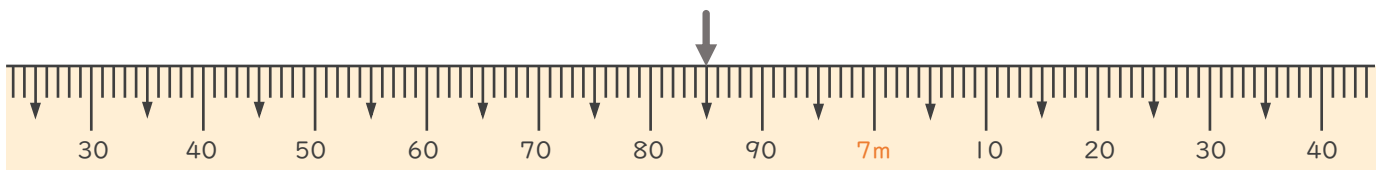
① 7 m 9 5 c m

② 8 m 2 0 c m

③ 8 m 7 4 c m



3 次のまきじゃくで、↓ のメモリが表している長さを読み取りましょう。



答え ( 6 m 8 5 c m )

