



円と球 6

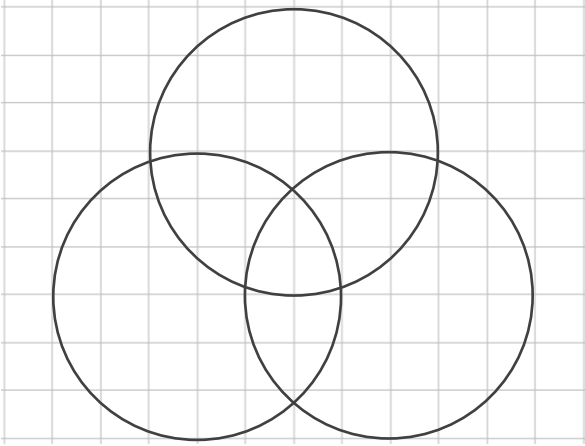
● コンパスを使った
いろいろな作図

13

日にち： 月 日

名まえ _____

① コンパスを使って、次のもようをかきましょう。



② 直径が8cmの円をかきましょう。





円と球 6

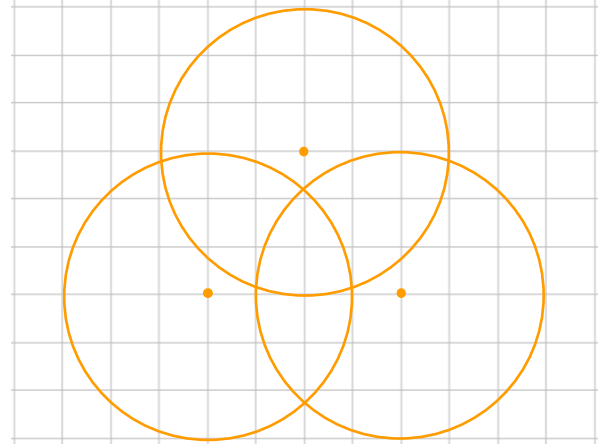
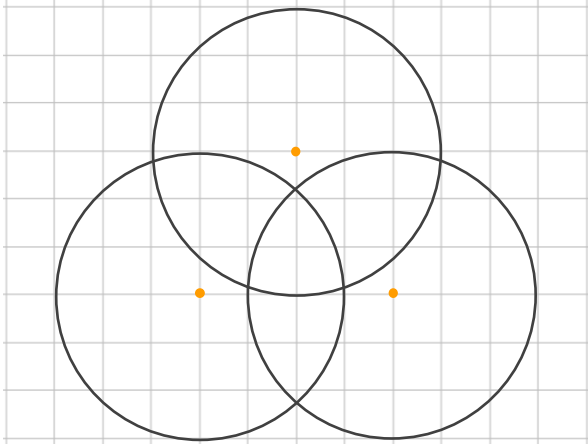
● コンパスを使った
いろいろな作図

13

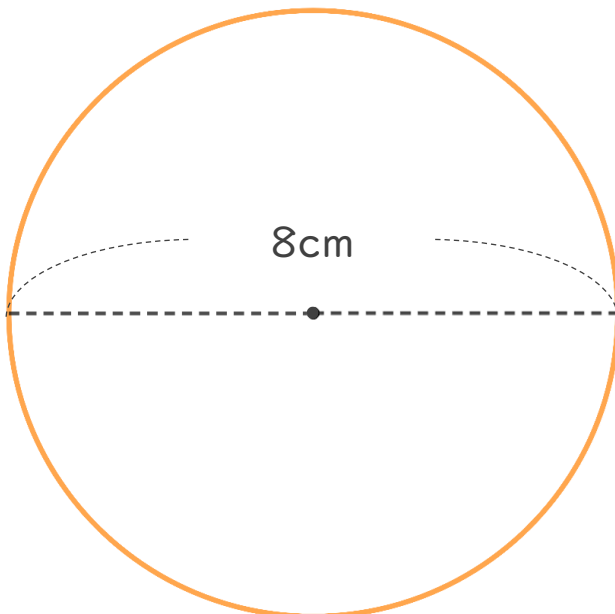
日にち： 月 日

名まえ _____

① コンパスを使って、次のもようをかきましょう。



② 直径が8cmの円をかきましょう。



半径は 4 cm

円をかいたら
直径が8cmかも
チェックしよう！

