



円と球 7

コンパスで長さ比べ

13

日にち： 月 日

名まえ _____

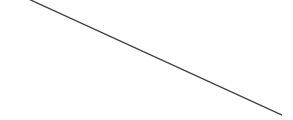
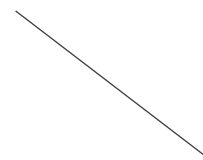
1 次の直線の長さをくらべ、長い順に答えましょう。

①

ア

イ

ウ




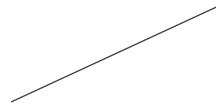
答え： → →

②

ア

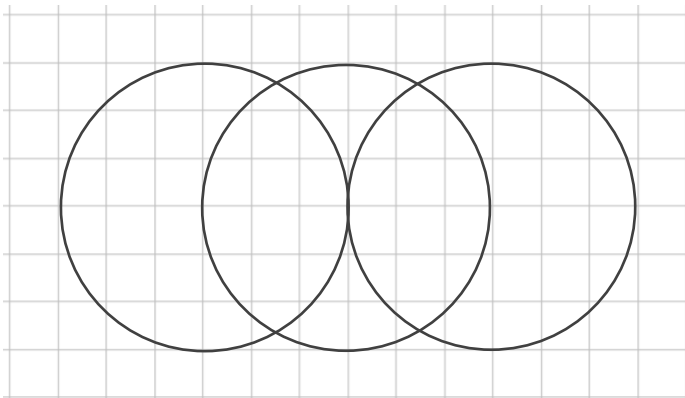
イ

ウ



答え： → →

2 コンパスを使って、次のもようをかきましょう。





円と球 7

コンパスで長さ比べ

13

日にち： 月 日

名まえ _____

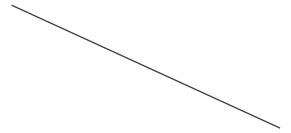
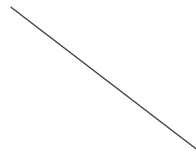
1 次の直線の長さをくらべ、長い順に答えましょう。

①

ア

イ

ウ




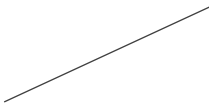
答え： ウ → イ → ア

②

ア

イ

ウ



答え： ウ → イ → ア

2 コンパスを使って、次のもようをかきましょう。

