



円と球 7

コンパスで長さ比べ



日にち： 月 日

名まえ _____

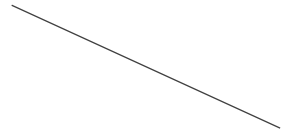
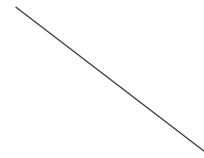
1 次の直線の長さをくらべ、長いじゆんに答えましょう。

①

ア

イ

ウ




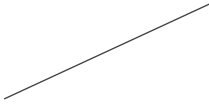
答え： → →

②

ア

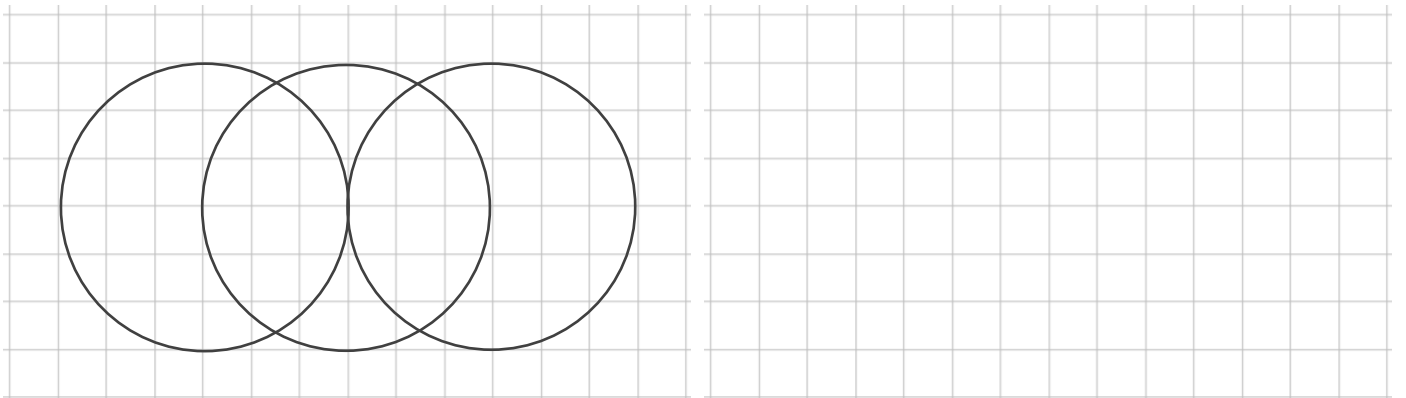
イ

ウ



答え： → →

2 コンパスを使って、次のもようをかきましょう。





円と球 7

コンパスで長さ比べ

13

日にち： 月 日

名まえ

1 次の直線の長さをくらべ、長いじゆんに答えましょう。

①

ア

イ

ウ

答え： **ウ** → **イ** → **ア**

②

ア

イ

ウ

答え： **ウ** → **イ** → **ア**

2 コンパスを使って、次のもようをかきましょう。

