



## 円と球 6

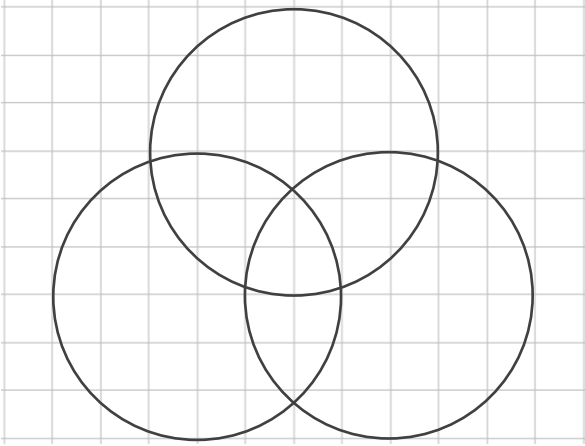
● コンパスを使った  
いろいろな作図



日にち：            月            日

名まえ \_\_\_\_\_

① コンパスを使って、次のもようをかきましょう。



② 直径が8 cmの円をかきましょう。





## 円と球 6

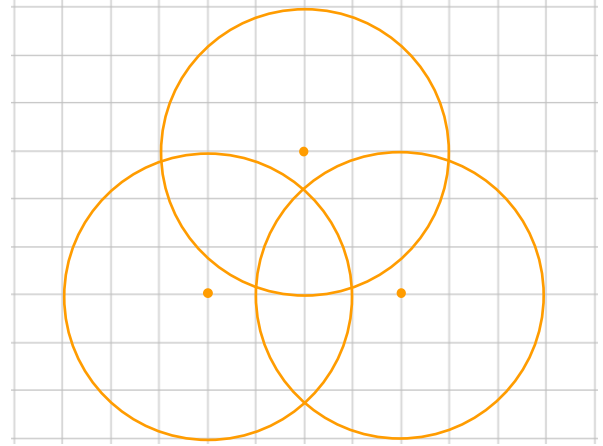
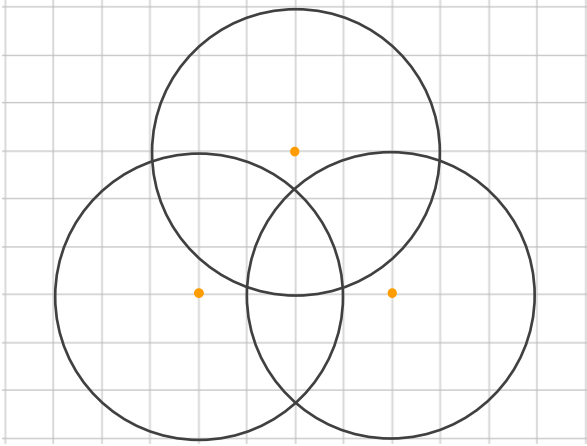
● コンパスを使った  
いろいろな作図



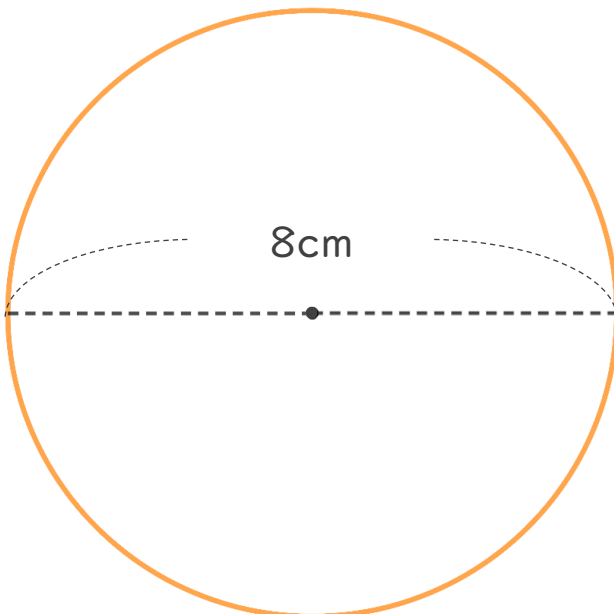
日にち：            月            日

名まえ \_\_\_\_\_

① コンパスを使って、次のもようをかきましょう。



② 直径が8 cmの円をかきましょう。



半径は 4 cm

円をかいたら  
直径が8 cmかも  
チェックしよう！

