



分数 9

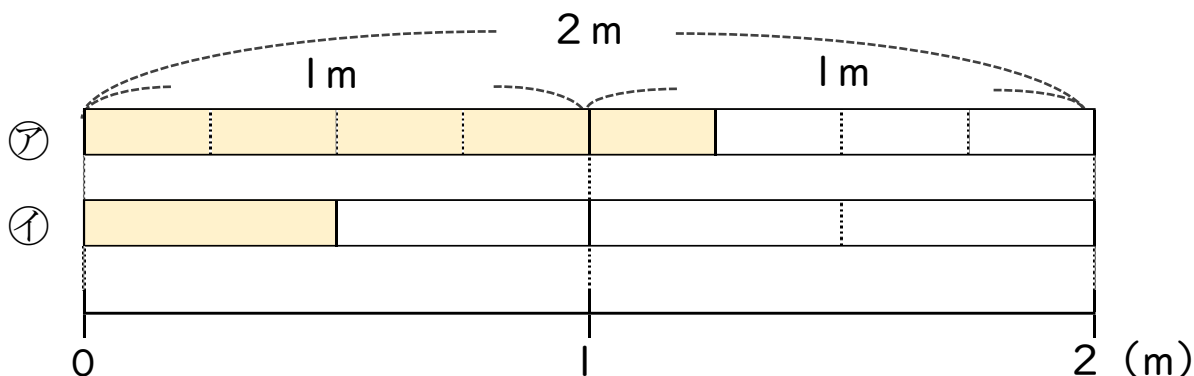
● 分数で表される
りょうとわり合



日にち： 月 日

名まえ _____

1 次の図を見て答えましょう



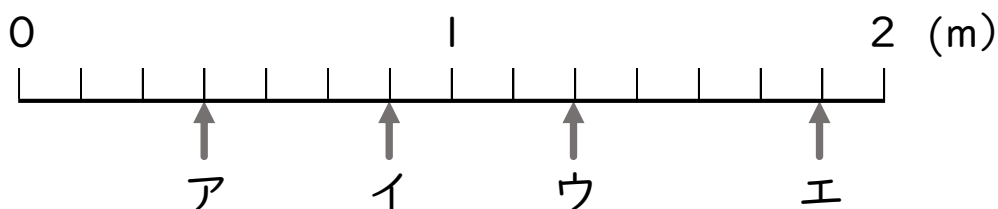
① 色のついた長さを「2mの $\frac{\square}{\square}$ 」という表し方でいましょう。

ア 2mの イ 2mの

② ア, イの色のついたテープの長さはいそれぞれ何mですか。

ア m イ m

2 ア～エのめもりが表す長さは、それぞれ何mですか。



答え ア イ ウ エ



分数 9

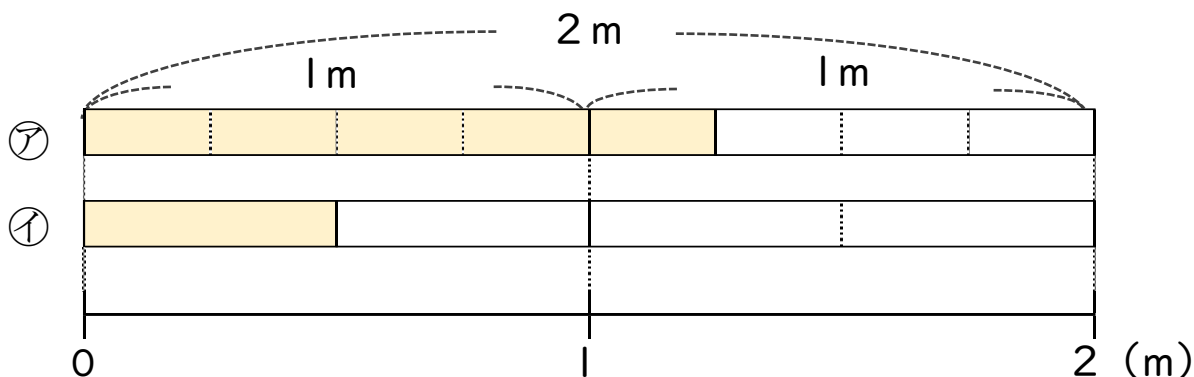
● 分数で表される
りょうとわり合



日にち： 月 日

名まえ _____

1 次の図を見て答えましょう



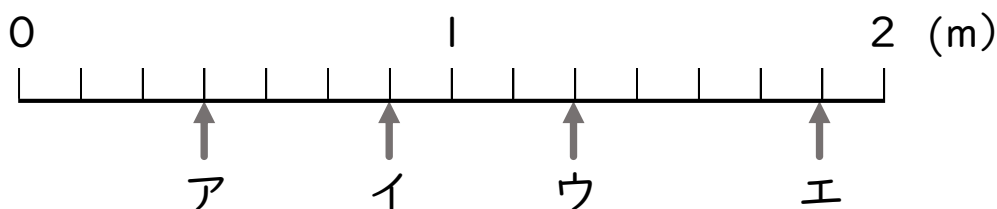
① 色のついた長さを「2mの $\frac{\square}{\square}$ 」という表し方でいましょう。

ア $2\text{ m の } \frac{5}{8}$ ・ イ $2\text{ m の } \frac{1}{4}$

② ア, イの色のついたテープの長さはいそれぞれ何mですか。

ア $\frac{5}{4}\text{ m}$ ・ イ $\frac{1}{2}\text{ m}$

2 ア～エのめもりが表す長さは、それぞれ何mですか。



答え ア $\frac{3}{7}$ イ $\frac{6}{7}$ ウ $\frac{9}{7}$ エ $\frac{13}{7}$