



分数 9

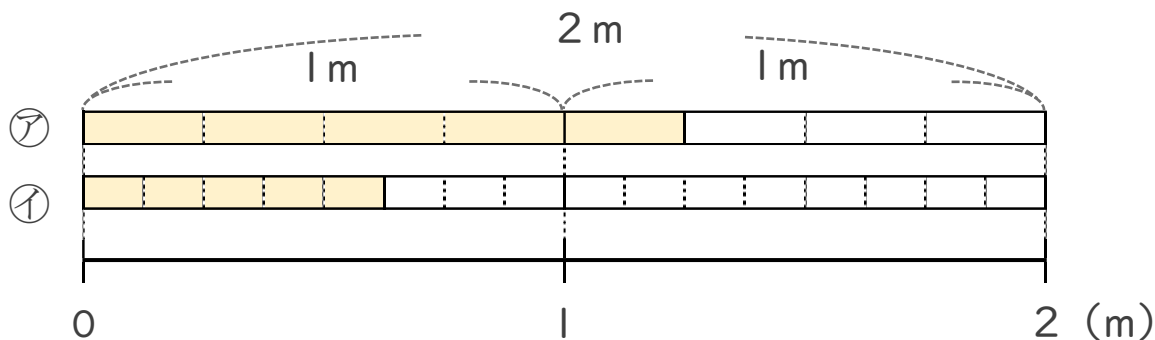
● 分数で表される
りょうとわり合



日にち： 月 日

名まえ _____

1 次の図を見て答えましょう。



① 色のついた長さを「2mの $\frac{\square}{\square}$ 」と表してみましょう。

ア 2mの _____

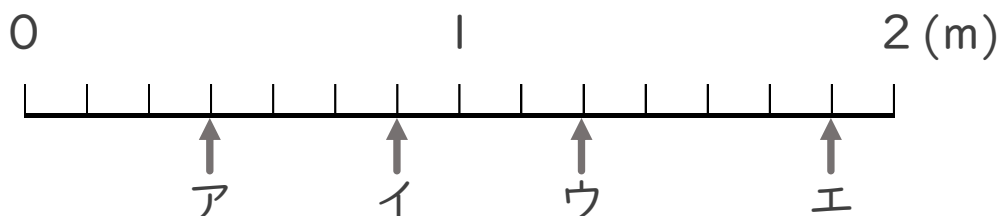
イ 2mの _____

② ア, イの色のついたテープの長さはそれぞれ何mですか。

ア _____ m

イ _____ m

2 ア～エのめもりが表す長さは、それぞれ何mですか。



ア m イ m ウ m エ m



分数 9

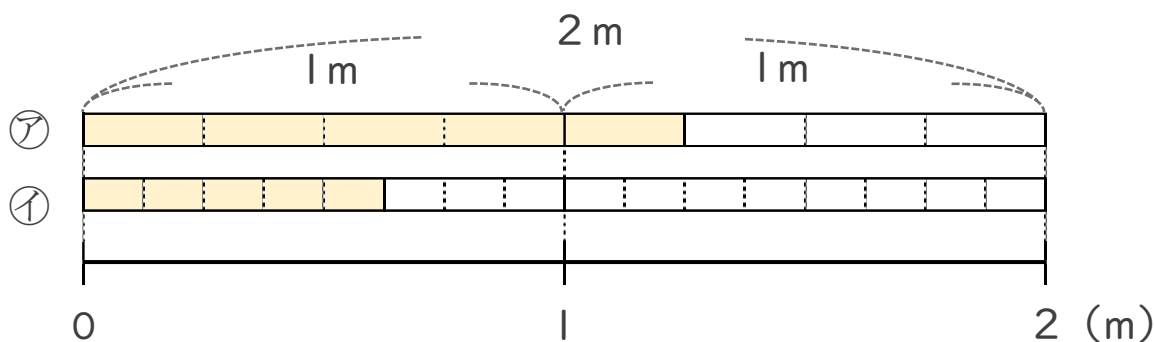
● 分数で表される
りょうとわり合



日にち： 月 日

名まえ _____

1 次の図を見て答えましょう。



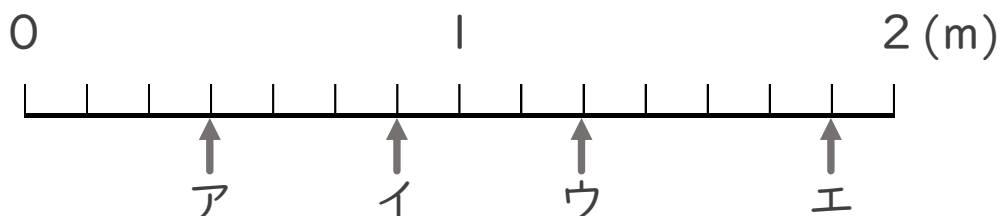
① 色のついた長さを「2mの $\frac{\square}{\square}$ 」と表してみましょう。

ア 2m の $\frac{5}{8}$ イ 2m の $\frac{5}{16}$

② ア, イの色のついたテープの長さはそれぞれ何mですか。

ア $\frac{5}{4}$ m イ $\frac{5}{8}$ m

2 ア～エのめもりが表す長さは、それぞれ何mですか。



ア $\frac{3}{7}$ m イ $\frac{6}{7}$ m ウ $\frac{9}{7}$ m エ $\frac{13}{7}$ m

