



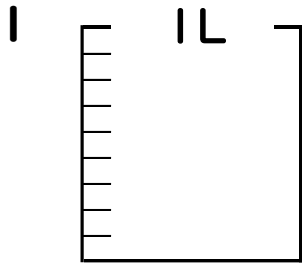
# 分数 5

● 分数の水のかさの色ぬり



日にち：            月            日

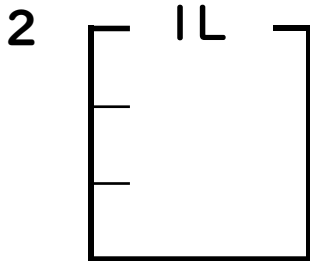
名まえ \_\_\_\_\_



①  $\frac{1}{9}$  Lの 6 こ分だけ色をぬりましょう。

② 色をぬったところのかさは何Lですか。

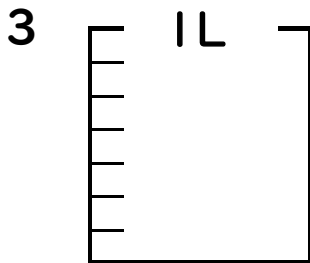
\_\_\_\_\_ L



①  $\frac{1}{3}$  Lの 1 こ分だけ色をぬりましょう。

② 色をぬったところのかさは何Lですか。

\_\_\_\_\_ L



①  $\frac{1}{7}$  Lの 3 こ分だけ色をぬりましょう。

② 色をぬったところのかさは何Lですか。

\_\_\_\_\_ L

4 色をぬったところの長さは、何mでしょう。



こたえ： \_\_\_\_\_ m



こたえ： \_\_\_\_\_ m





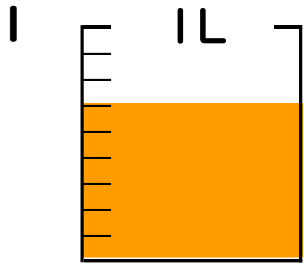
# 分数 5

● 分数の水のかさの色ぬり



日にち：            月            日

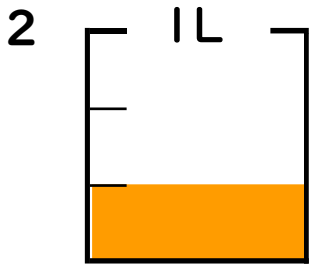
名まえ \_\_\_\_\_



①  $\frac{1}{9}$  Lの 6 ぶんだけ色をぬりましょう。

② 色をぬったところのかさは何Lですか。

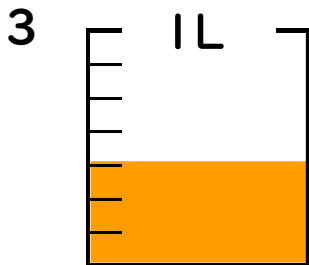
$\frac{6}{9}$  L



①  $\frac{1}{3}$  Lの 1 ぶんだけ色をぬりましょう。

② 色をぬったところのかさは何Lですか。

$\frac{1}{3}$  L



①  $\frac{1}{7}$  Lの 3 ぶんだけ色をぬりましょう。

② 色をぬったところのかさは何Lですか。

$\frac{3}{7}$  L

4 色をぬったところの長さは、何mでしょう。



こたえ： $\frac{2}{5}$  m



こたえ： $\frac{9}{10}$  m

