



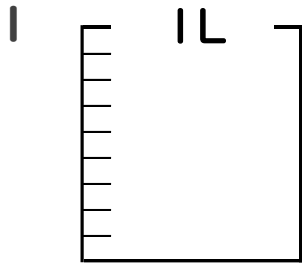
# 分数 5

● 分数の水のかさの色ぬり



日にち：            月            日

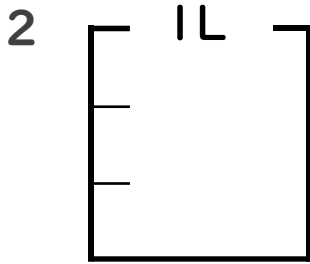
名まえ \_\_\_\_\_



①  $\frac{1}{9}$  Lの 6 こ分だけ色をぬりましょう。

② 色をぬったところのかさは何Lですか。

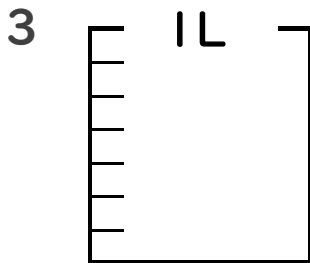
\_\_\_\_\_ L



①  $\frac{1}{3}$  Lの 1 こ分だけ色をぬりましょう。

② 色をぬったところのかさは何Lですか。

\_\_\_\_\_ L



①  $\frac{1}{7}$  Lの 3 こ分だけ色をぬりましょう。

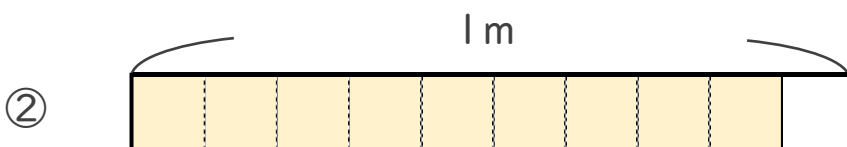
② 色をぬったところのかさは何Lですか。

\_\_\_\_\_ L

4 色をぬったところの長さは、何mでしょう。



こたえ： \_\_\_\_\_ m



こたえ： \_\_\_\_\_ m



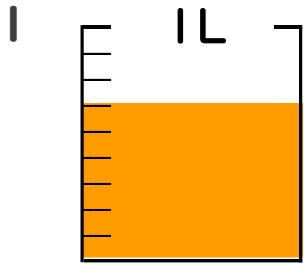
# 分数 5

● 分数の水のかさの色ぬり



日にち：            月            日

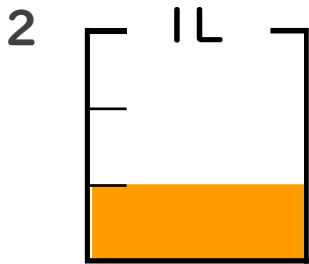
名まえ \_\_\_\_\_



①  $\frac{1}{9}$  Lの 6 ぶんだけ色をぬりましょう。

② 色をぬったところのかさは何Lですか。

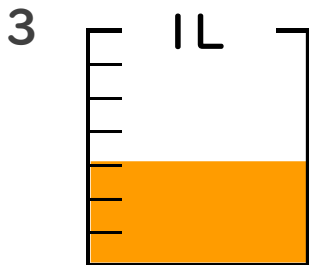
          
 $\frac{6}{9}$  L



①  $\frac{1}{3}$  Lの 1 ぶんだけ色をぬりましょう。

② 色をぬったところのかさは何Lですか。

          
 $\frac{1}{3}$  L



①  $\frac{1}{7}$  Lの 3 ぶんだけ色をぬりましょう。

② 色をぬったところのかさは何Lですか。

          
 $\frac{3}{7}$  L

4 色をぬったところの長さは、何mでしょう。



こたえ：           
 $\frac{2}{5}$  m



こたえ：           
 $\frac{9}{10}$  m

