



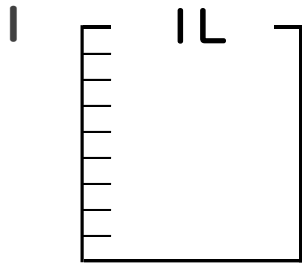
分数 5

● 分数の水のかさの色ぬり



日にち： 月 日

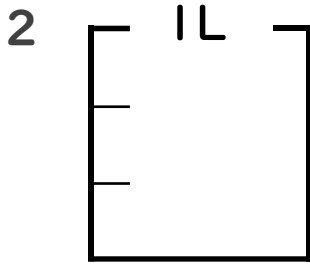
名まえ _____



① $\frac{1}{9}$ Lの 6 こ分だけ色をぬりましょう。

② 色をぬったところのかさは何Lですか。

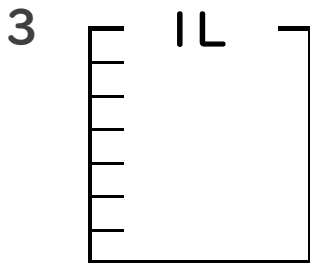
_____ L



① $\frac{1}{3}$ Lの 1 こ分だけ色をぬりましょう。

② 色をぬったところのかさは何Lですか。

_____ L



① $\frac{1}{7}$ Lの 3 こ分だけ色をぬりましょう。

② 色をぬったところのかさは何Lですか。

_____ L

4 色をぬったところの長さは、何mでしょう。



こたえ： _____ m



こたえ： _____ m



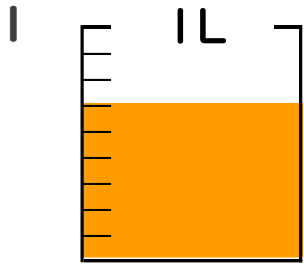
分数 5

● 分数の水のかさの色ぬり



日にち： 月 日

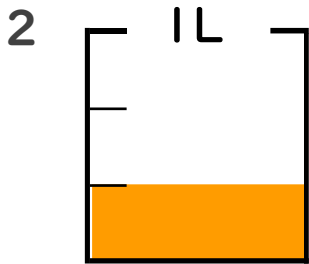
名まえ _____



① $\frac{1}{9}$ Lの 6 ぶんだけ色をぬりましょう。

② 色をぬったところのかさは何Lですか。

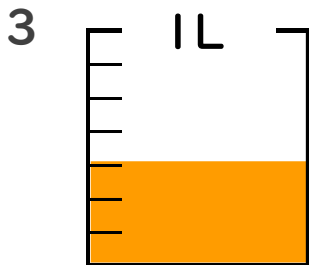
 $\frac{6}{9}$ L



① $\frac{1}{3}$ Lの 1 ぶんだけ色をぬりましょう。

② 色をぬったところのかさは何Lですか。

 $\frac{1}{3}$ L



① $\frac{1}{7}$ Lの 3 ぶんだけ色をぬりましょう。

② 色をぬったところのかさは何Lですか。

 $\frac{3}{7}$ L

4 色をぬったところの長さは、何mでしょう。



こたえ：
 $\frac{2}{5}$ m



こたえ：
 $\frac{9}{10}$ m

