



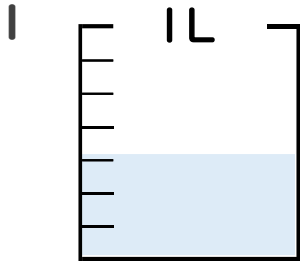
分数 4

● 分数の水のかさの読み取り



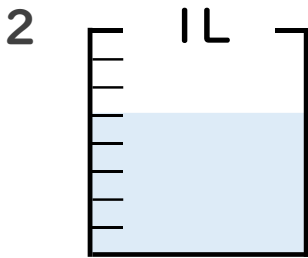
日にち： 月 日

名まえ _____



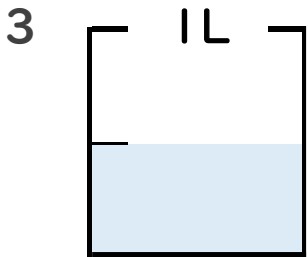
① 図の水のかさは1メモリの何こ分ですか？ _____ 半分

② 水のかさは、何Lですか？ _____ L



① 図の水のかさは1メモリの何こ分ですか？ _____ 3/4

② 水のかさは、何Lですか？ _____ L

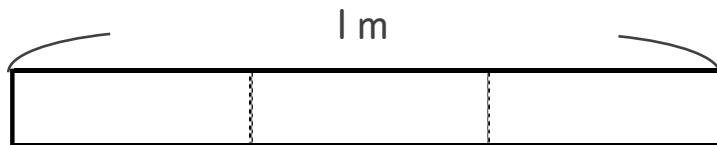


① 図の水のかさは1メモリの何こ分ですか？ _____ 1/4

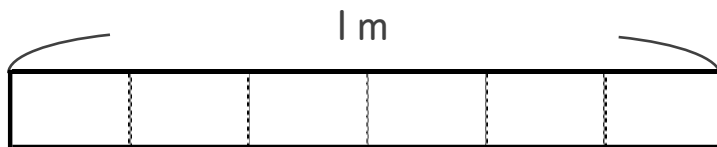
② 水のかさは、何Lですか？ _____ L

4 次の長さの分だけ色をぬりましょう。

① $\frac{2}{3}$ m



② $\frac{4}{6}$ m





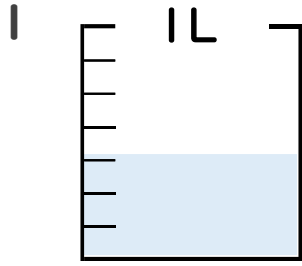
分数 4

分数の水のかさの読み取り



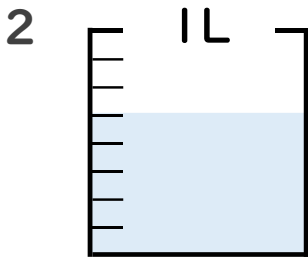
日にち： 月 日

名まえ



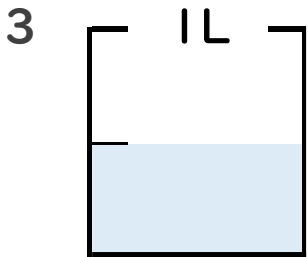
① 図の水のかさは1めもりの何こ分ですか？ 3 共分

② 水のかさは、何Lですか？ $\frac{3}{7}$ L



① 図の水のかさは1めもりの何こ分ですか？ 5 共分

② 水のかさは、何Lですか？ $\frac{5}{8}$ L



① 図の水のかさは1めもりの何こ分ですか？ 1 共分

② 水のかさは、何Lですか？ $\frac{1}{2}$ L

4 次の長さの分だけ色をぬりましょう。

