



分数 3

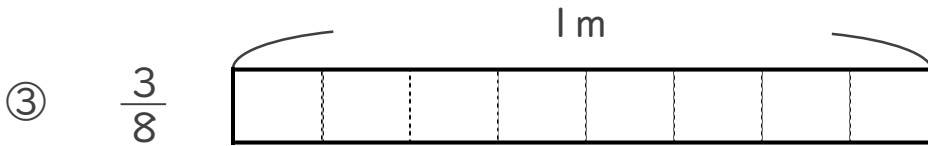
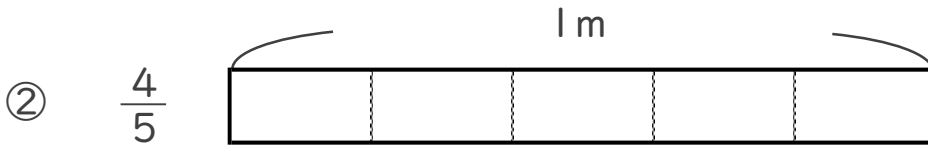
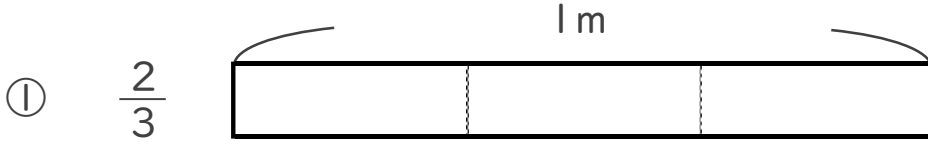
● 分数の長さの色ぬり



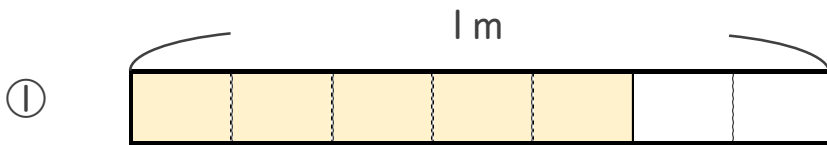
日にち： 月 日

名まえ _____

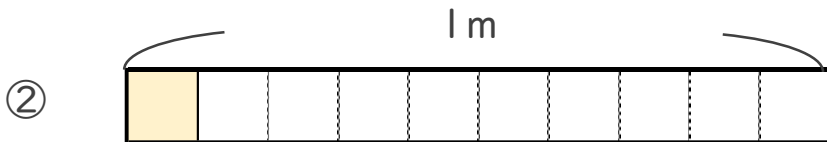
1 次の長さの分だけ色をぬりましょう。



2 色をぬったところの長さは、何mでしょう。



こたえ： _____ m



こたえ： _____ m



分数 3

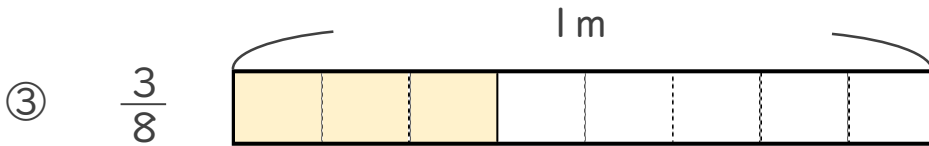
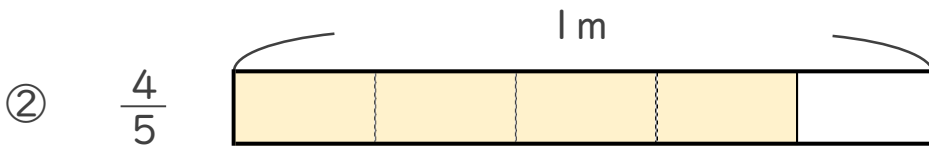
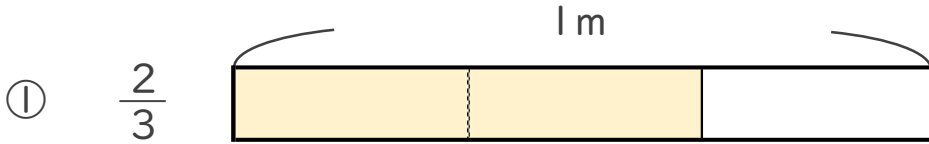
● 分数の長さの色ぬり



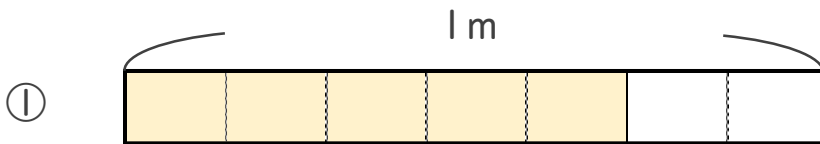
日にち： 月 日

名まえ _____

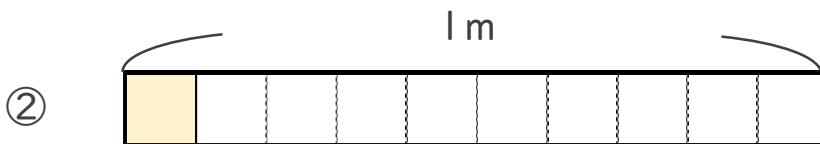
1 次の長さの分だけ色をぬりましょう。



2 色をぬったところの長さは、何mでしょう。



こたえ： $\frac{5}{7}$ m



こたえ： $\frac{1}{10}$ m