



分数 2

◎ 分数の長さの読み取り

13

日にち： 月 日

名まえ _____

・ ^{いろ}色をぬったところの^{なが}長さは、何^{なん}mでしょう。

① 1 m 答え： _____ m

② 1 m 答え： _____ m

③ 1 m 答え： _____ m

④ 1 m 答え： _____ m

⑤ 1 m 答え： _____ m

⑥ 1 m 答え： _____ m

⑦ 1 m 答え： _____ m





分数 2

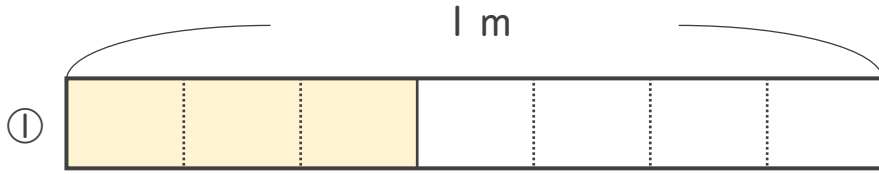
● 分数の長さの読み取り

13

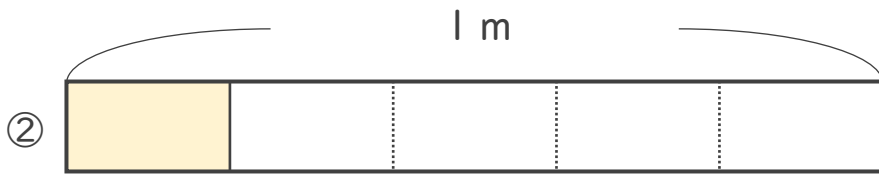
日にち： 月 日

名まえ _____

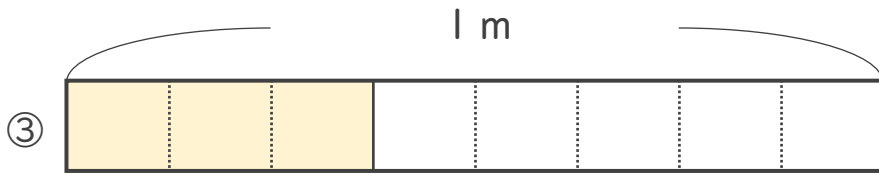
いろ
・色をぬったところのなが
なが
なん
は、何mでしょう。



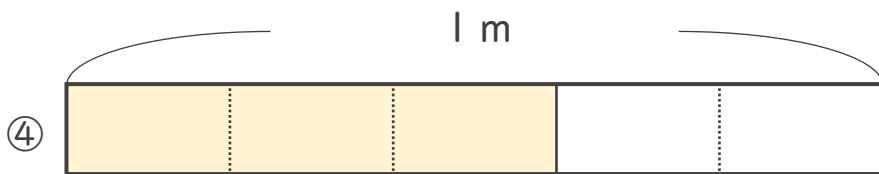
こたえ： $\frac{3}{7}$ m



こたえ： $\frac{1}{5}$ m



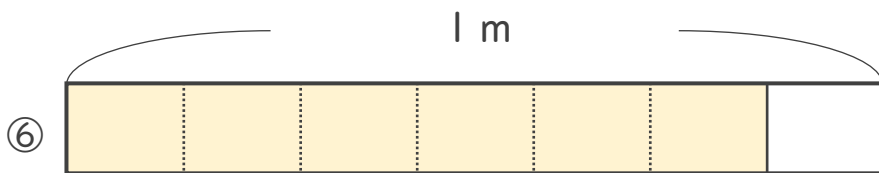
こたえ： $\frac{3}{8}$ m



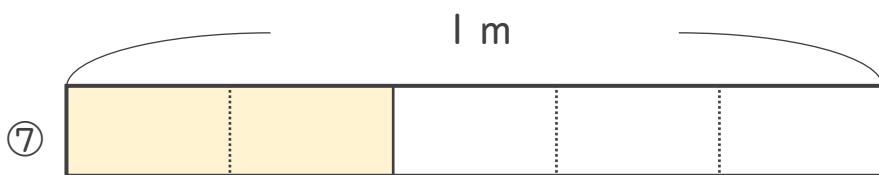
こたえ： $\frac{3}{5}$ m



こたえ： $\frac{1}{2}$ m



こたえ： $\frac{6}{7}$ m



こたえ： $\frac{2}{5}$ m

