



かけ算の筆算 31

● 十の位が0の
3けた × 2けたのかけ算




日にち： 月 日


名まえ _____

・筆算で計算しましょう。


① 503×48




③ 608×15



② 754×92



④ 407×62





かけ算の筆算 31

● 十の位が0の
3けた × 2けたのかけ算



日にち： 月 日

名まえ _____

・筆算で計算しましょう。

① 503×48

		5	0	3
	×		4	8
		4	0	2 ² 4
2	0	1 ¹	2	
2	4	1	4	4

③ 608×15

		6	0	8
	×		1	5
		3	0	4 ⁴ 0
6	0	8		
9	1 ¹	2	0	

② 754×92

		7	5	4
	×		9	2
		1	5 ¹	0 ⁸
6	7 ⁴	8 ³	6	
6	9 ¹	3	6	8

④ 407×62

		4	0	7
	×		6	2
			8	1 ¹ 4
2	4	4 ⁴	2	
2	5 ¹	2	3	4