



小数の意味と表し方

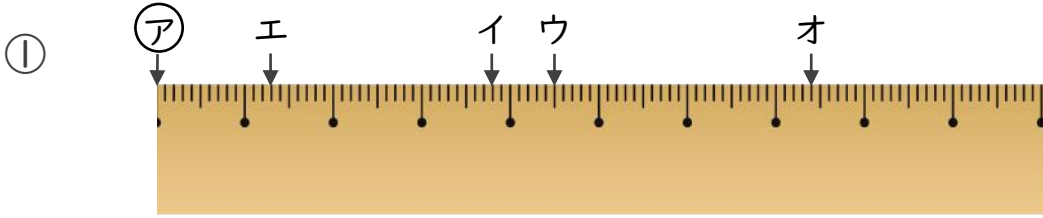
① 小数で表す1cmより短い長さ



日にち： 月 日

名まえ _____

1 ①からイ、ウ、エ、オまでの長さは、それぞれ何cmですか。

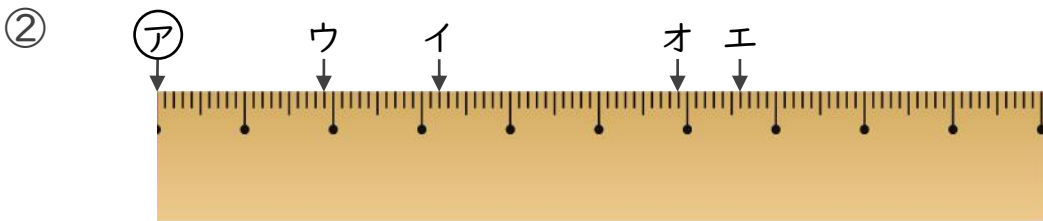


答え ①からイ _____

①からウ _____

①からエ _____

①からオ _____



答え ②からイ _____

②からウ _____

②からエ _____

②からオ _____

2 次のかさは何Lでしょうか。小数で答えましょう。

① 0.1Lの6こ分

答え _____

③ 0.1Lの2こ分

答え _____

② 4Lと、0.1Lの5こ分

答え _____

④ 2Lと、0.1Lの4こ分

答え _____



小数の意味と表し方7

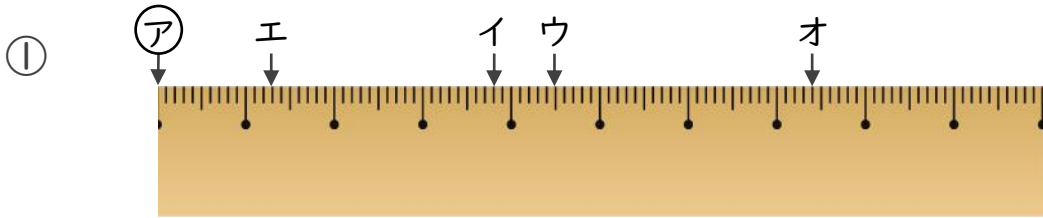
● 小数で表す1cmより短い長さ



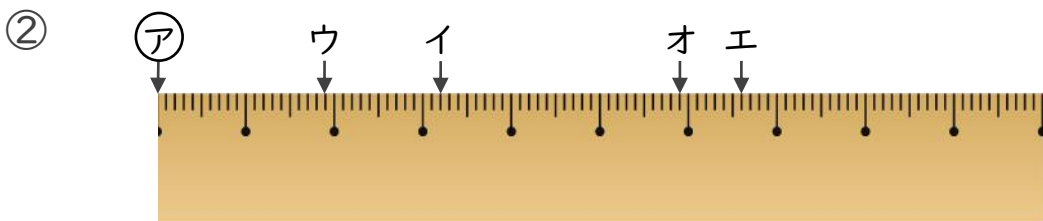
日にち： 月 日

名まえ _____

1 ㊦からイ、ウ、エ、オまでの長さは、それぞれ何cmですか。



答え ㊦からイ **3.8 cm** ㊦からウ **4.5 cm**
 ㊦からエ **1.3 cm** ㊦からオ **7.4 cm**



答え ㊦からイ **3.2 cm** ㊦からウ **1.9 cm**
 ㊦からエ **6.6 cm** ㊦からオ **5.9 cm**

2 次のかさは何Lでしょうか。小数で答えましょう。

① 0.1Lの6こ分

答え **0.6 L**

③ 0.1Lの2こ分

答え **0.2 L**

② 4Lと、0.1Lの5こ分

答え **4.5 L**

④ 2Lと、0.1Lの4こ分

答え **2.4 L**