



# 小数の意味と表し方 11

● 小数の位置を数直線へ書きこむ



日にち：            月            日

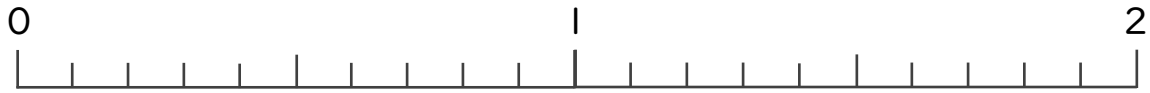
名まえ \_\_\_\_\_

1 次の数を、数直線に ↑ で数を書きましょう。

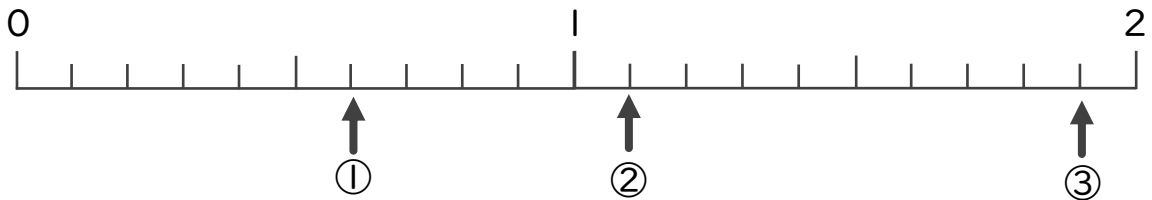
- ① 0.5                      ② 0.7                      ③ 1.8                      ④ 1.2



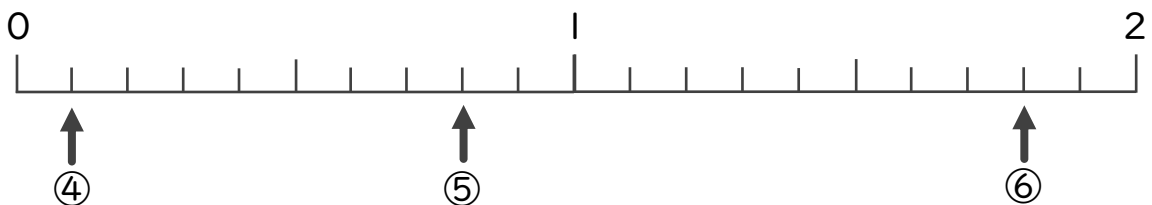
- ⑤ 0.6                      ⑥ 1.1                      ⑦ 1                      ⑧ 1.7



2 下の数直線を見て ↑ のめもりが表す数を書きましょう。



① \_\_\_\_\_                      ② \_\_\_\_\_                      ③ \_\_\_\_\_



④ \_\_\_\_\_                      ⑤ \_\_\_\_\_                      ⑥ \_\_\_\_\_



# 小数の意味と表し方II

● 小数の位置を数直線へ書きこむ

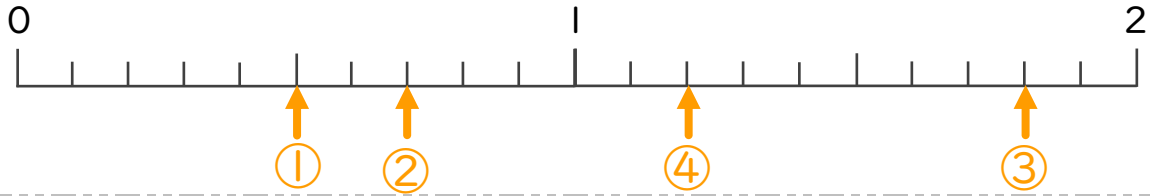


日にち：            月            日

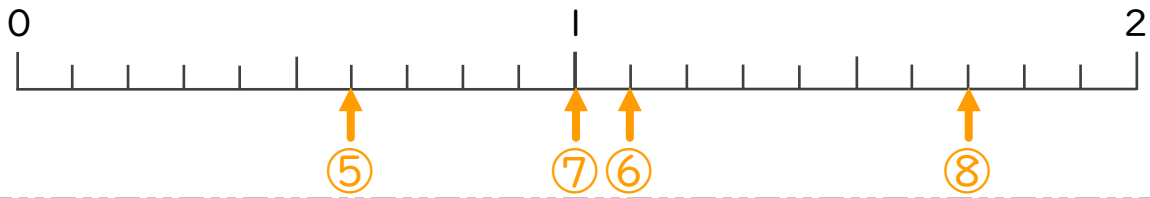
名まえ \_\_\_\_\_

1 次の数を、数直線に ↑ で数を書きましょう。

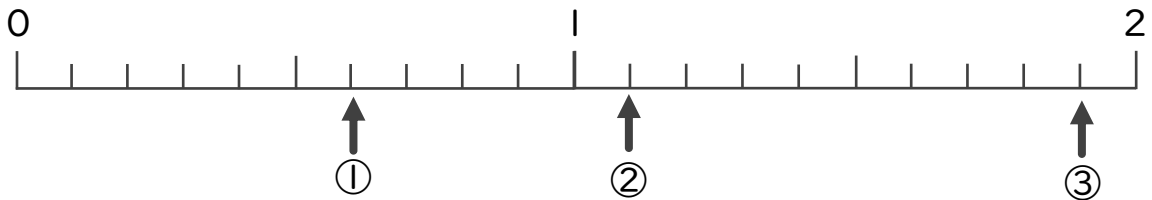
- ① 0.5                      ② 0.7                      ③ 1.8                      ④ 1.2



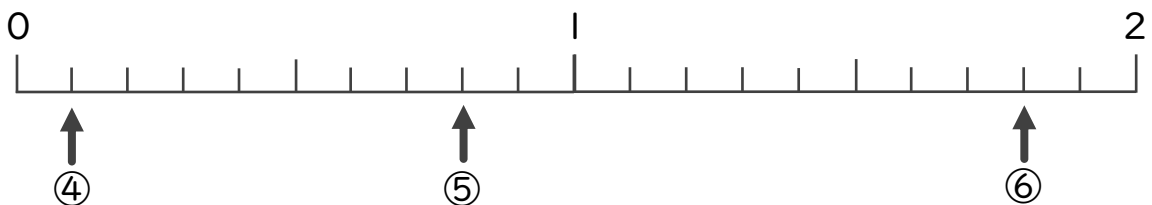
- ⑤ 0.6                      ⑥ 1.1                      ⑦ 1                      ⑧ 1.7



2 下の数直線を見て ↑ のめもりが表す数を書きましょう。



- ① 0.6                      ② 1.1                      ③ 1.9



- ④ 0.1                      ⑤ 0.8                      ⑥ 1.8