



小数の意味と表し方II

● 小数の位置を数直線へ書きこむ



日にち： 月 日

名まえ _____

1 次の数を表すメモリに↑を書きましょう。

① 0.5

② 0.7

③ 1.8

④ 1.2



⑤ 0.6

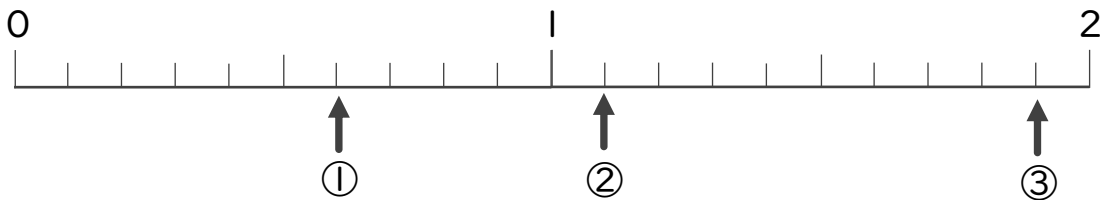
⑥ 1.1

⑦ 1

⑧ 1.7



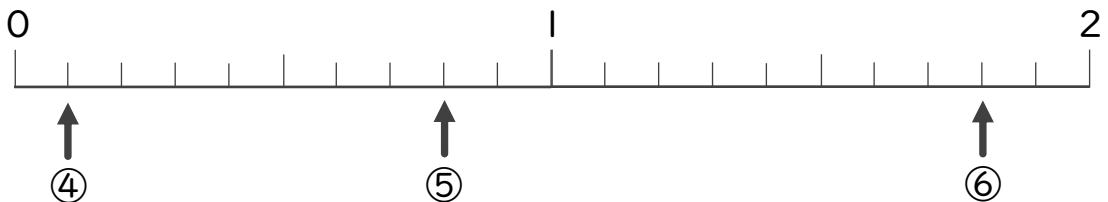
2 下の数直線を見て↑のメモリが表す数を書きましょう。



① _____

② _____

③ _____



④ _____

⑤ _____

⑥ _____



小数の意味と表し方 11

● 小数の位置を数直線へ書きこむ



日にち： 月 日

名まえ _____

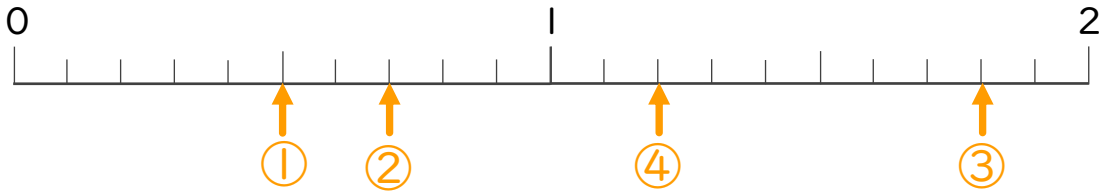
1 次の数を表すめもりに ↑ を書きましょう。

① 0.5

② 0.7

③ 1.8

④ 1.2

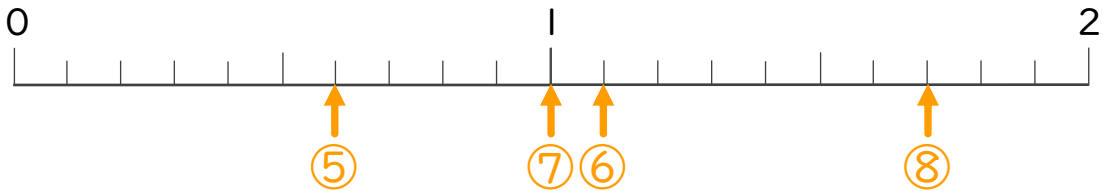


⑤ 0.6

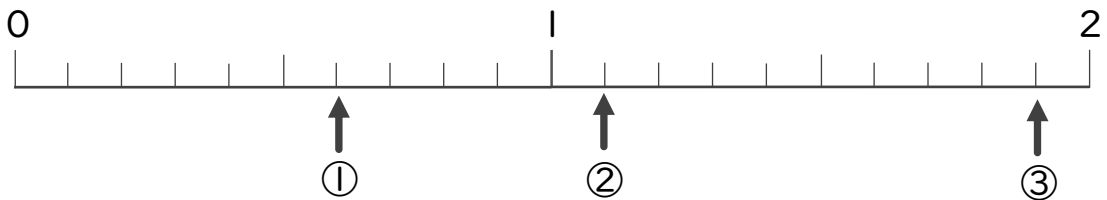
⑥ 1.1

⑦ 1

⑧ 1.7



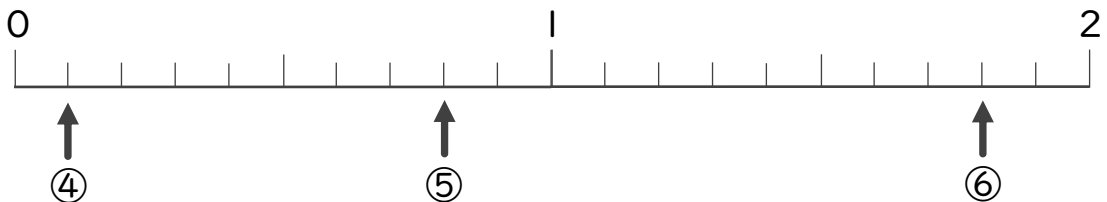
2 下の数直線を見て ↑ のめもりが表す数を書きましょう。



① 0.6

② 1.1

③ 1.9



④ 0.1

⑤ 0.8

⑥ 1.8