



# 小数の意味と表し方 10

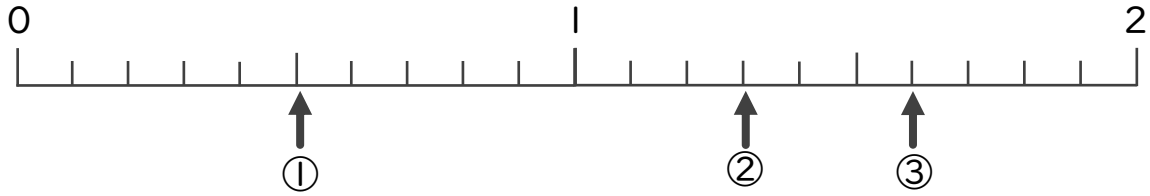
数直線の小数の読みとり



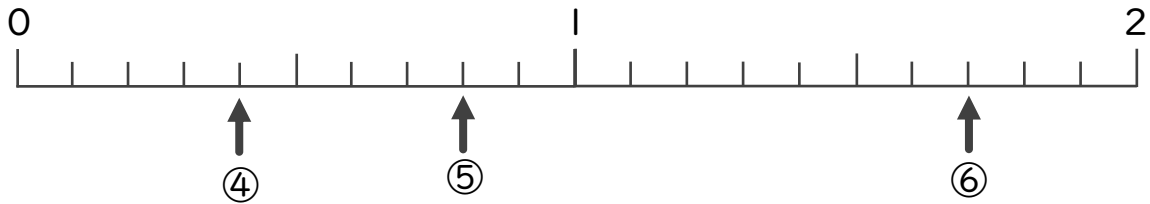
日にち： 月 日

名まえ

1 下の数直線を見て ↑ のめもりが表す数を書きましょう。

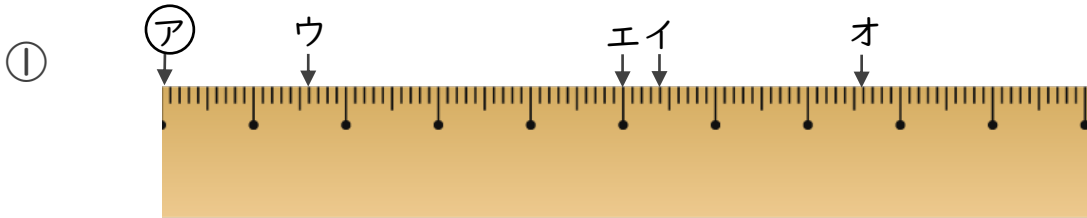


① \_\_\_\_\_      ② \_\_\_\_\_      ③ \_\_\_\_\_



④ \_\_\_\_\_      ⑤ \_\_\_\_\_      ⑥ \_\_\_\_\_

2 ㉞からイ、ウ、エ、オまでの長さは、それぞれ何cmですか。



答え      ㉞からイ      ㉞からウ  
             ㉞からエ      ㉞からオ



# 小数の意味と表し方 10

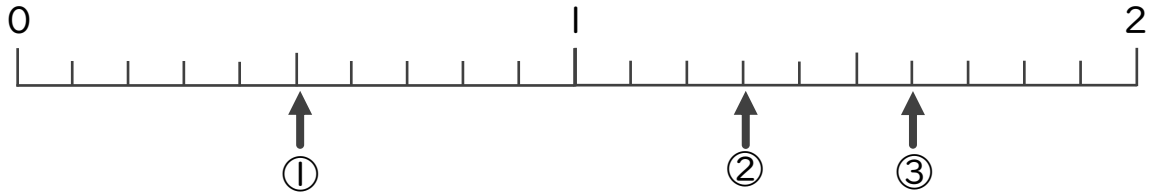
数直線の小数の読みとり



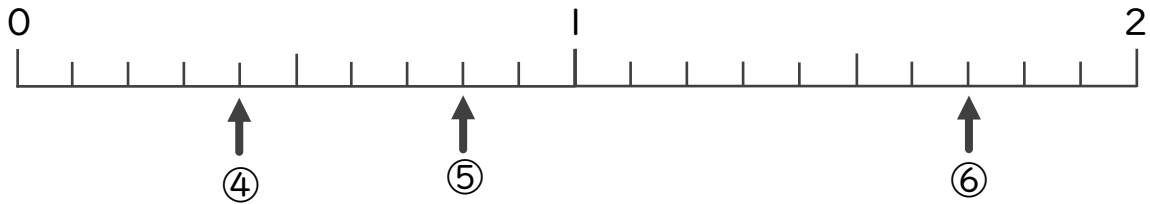
日にち： 月 日

名まえ

1 下の数直線を見て ↑ のめもりが表す数を書きましょう。

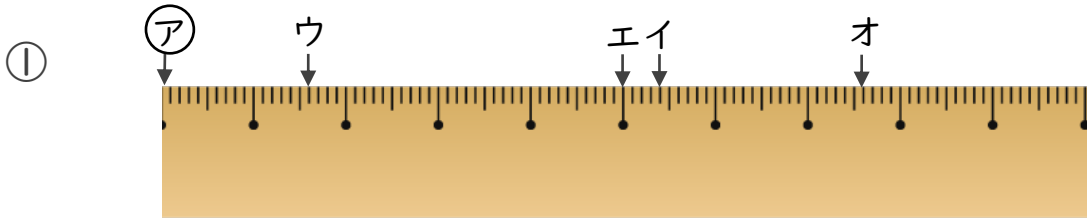


① 0.5      ② 1.3      ③ 1.6



④ 0.4      ⑤ 0.8      ⑥ 1.7

2 ㉞からイ、ウ、エ、オまでの長さは、それぞれ何cmですか。



答え ㉞からイ 5.4 cm      ㉞からウ 1.6 cm

㉞からエ 5 cm      ㉞からオ 7.6 cm