



時こくと時間の  
もとめかた 2

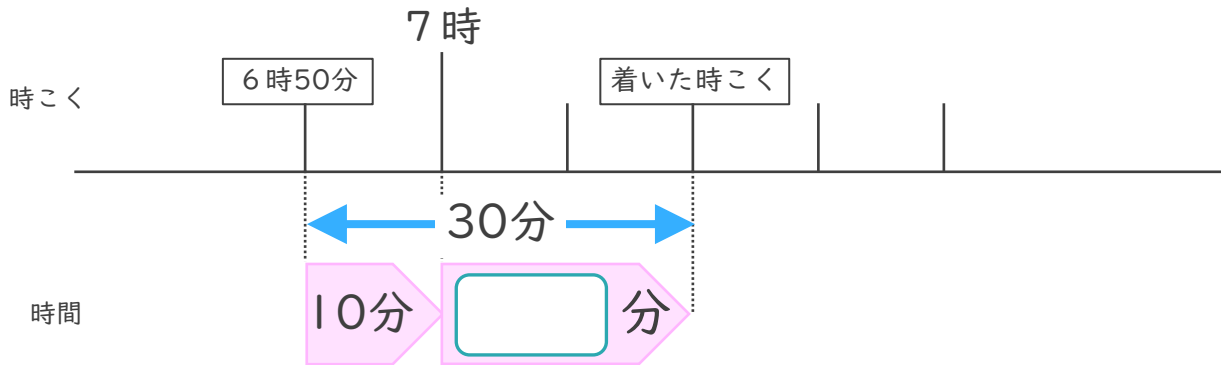
13

● 時こくをもとめる (数直線)

日にち： 月 日

名まえ \_\_\_\_\_

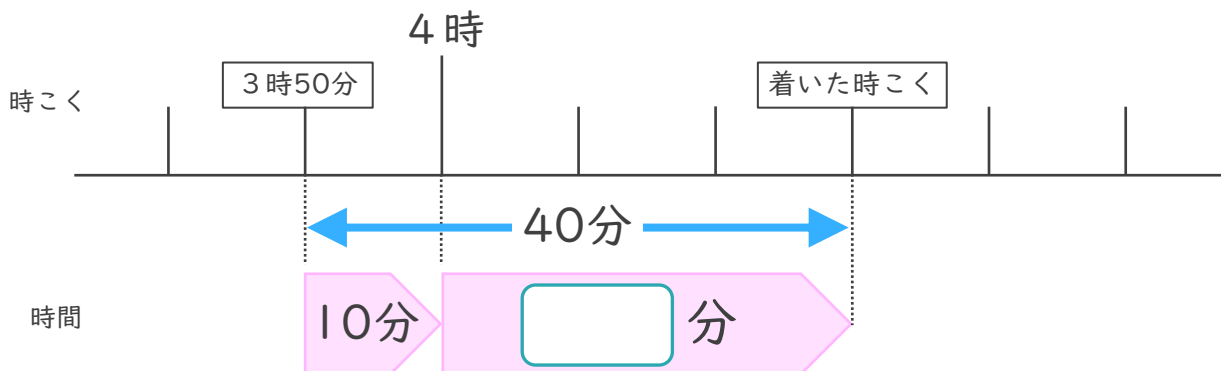
1 家を午前6時50分に出て、30分歩くと図書館に着きました。



- ①  にあてはまる数を書きましょう。
- ② 学校に着いた時こくは何時何分ですか。

答え ( )

2 家を午後3時50分に出て、40分歩くと公園に着きました。



- ①  にあてはまる数を書きましょう。
- ② 公園に着いた時こくは何時何分ですか。

答え ( )





時こくと時間の  
もとめかた 2

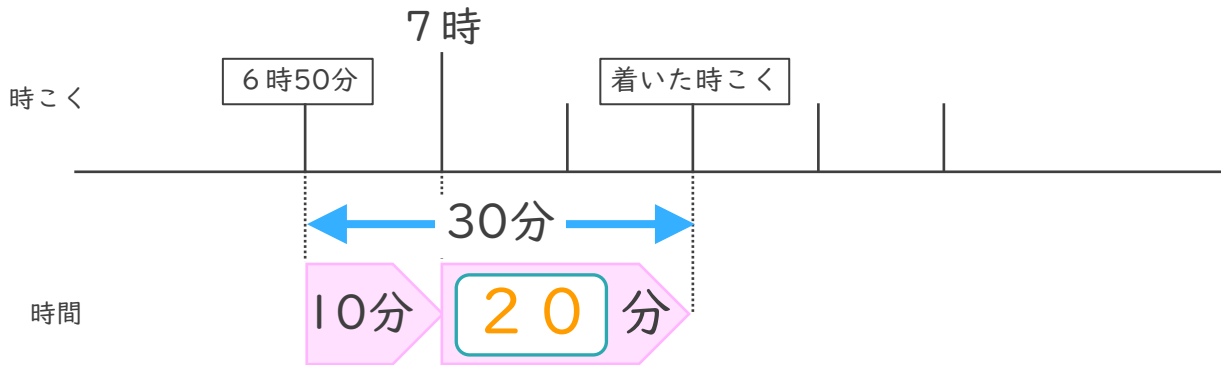
13

● 時こくをもとめる (数直線)

日にち： 月 日

名まえ \_\_\_\_\_

1 家を午前6時50分に出て、30分歩くと図書館に着きました。

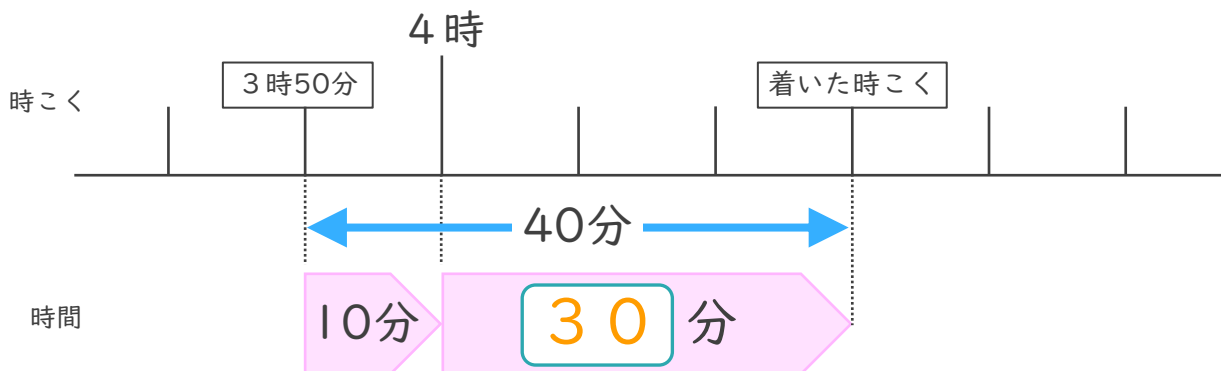


①  にあてはまる数を書きましょう。

② 学校に着いた時こくは何時何分ですか。

答え ( 7時20分 )

2 家を午後3時50分に出て、40分歩くと公園に着きました。



①  にあてはまる数を書きましょう。

② 公園に着いた時こくは何時何分ですか。

答え ( 4時30分 )

